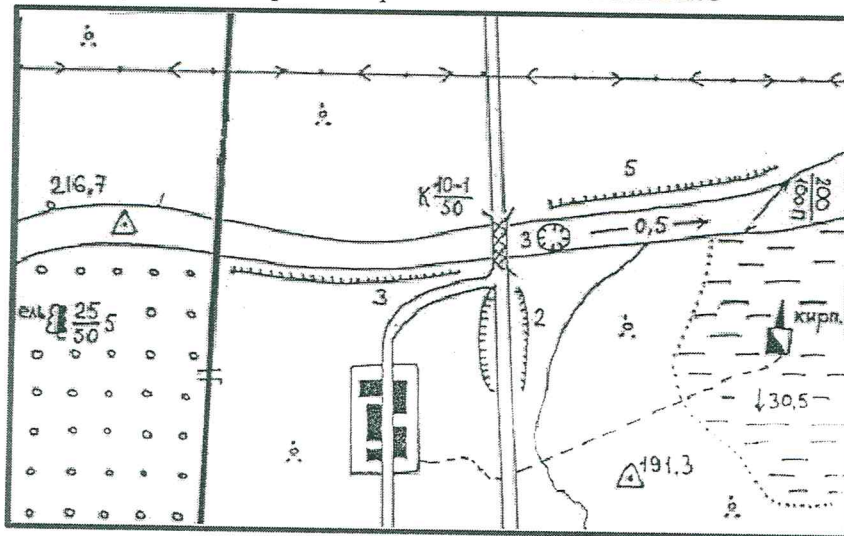


Шифр 7-г- 01

Теоретический тур (39 баллов)

Задание 1. (количество баллов – 15)

Что на данной топографической карте изображено **НЕПРАВИЛЬНО**



Ответы: На приведённой топографической карте изображено неправильно:

- + 1. На реке стоит воздушный знак.
- + 2. На реке расположена яма.
- + 3. На реке нет железнодорожного моста в месте её пересечения железной дорогой.
- + 4. Ширина реки указана стрелкой неверно.
- + 5. Ширина реки и глубина указаны неверно (если ширина 200 м не может быть 100 м и глубина).
- + 6. Металлический мост через реку подписан буквой и знаком как каменный.
- + 7. Длина моста меньше ширины реки.
- + 8. Ширина моста 1 м неправильно в отношении автострою.
- + 9. На болоте стоит кирпичный завод.
- + 10. Уезд воды на реке (216,7 м) выше чем высота воздушного знака на траве берегу (191,3 м).
- + 11. На левом берегу неверно обозначен обрыв.
- + 12. В юго-западной части обозначен условный знак смешанного леса, но там фруктовый сад.
- + 13. Ель не является местной породой.
- + 14. Толщина 50 м у м не может быть.
- + 15. Глубина болота не может быть 30,5 м.

За каждое замечание – по 1 баллу, максимум – 15 б.

Задание 2 (количество баллов – 21)

Найдите в Европе три полуострова, если известно, что

- 1) первый из них омывается четырьмя морями двух океанов,
- 2) второй омывается четырьмя морями одного океана
- 3) третий омывается пятью морями одного океана.

Назовите полуострова и моря. К каким океанам они относятся?

На каком полуострове больше всего стран?

Ответ:

№ п/п	Название полуострова	Название океана	Названия морей
+ 1.	Скандинавский п-ов	Атлантический океан + Северный Ледовитый океан +	Северное море, Норвежское море + Гибралтарское море , Берингово море +
2.			
3.			

Больше всего стран на _____ полуострове.

За каждый правильный ответ – по 1 б.

Задание 3 (количество баллов – 3)

Н.С. Гумилёв в своём стихотворении описал некую природную зону:

*А кругом на равнинах,
 Где трава укрывает жирафа,

 Он раскинул тенистые рощи
 Прихотливых мимоз и акаций,
 Рассадил по холмам баобабы,
 В галереях лесов, где прохладно
 И светло, как в дорическом храме,
 Он провёл многоводные реки...*

- а) О какой природной зоне идёт речь?
- б) В каком климатическом поясе она находится?
- в) На каком материке она расположена?

Ответ:

+ а) Саванна, редколесья, кустарники

+ б) Субэкваториальный пояс

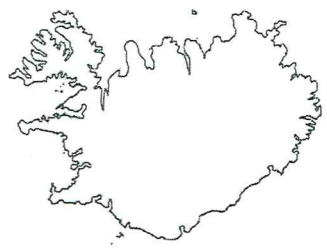
+ в) Африка

Всего за теоретический тур – 39 баллов

Шифр 7-г-

Тестовый тур (за каждое правильно выполненное задание – 1 б.)

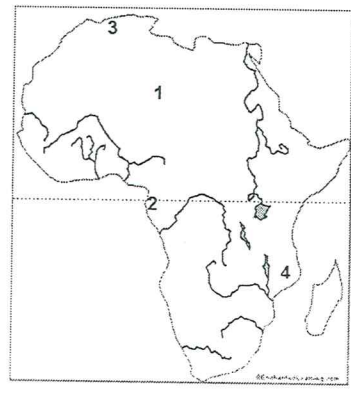
Обведите правильный ответ (Например: (С) 5)



1. Определите страну по изображению её контура:

- А) Япония
- Б) Филиппины
- В) Куба
- Г) Исландия

+




2. Какой цифрой обозначена наиболее сухая область Африки?

- А) 1
- Б) 2
- В) 3
- Г) 4

+

3. Как называется такая форма рельефа? Какие процессы привели к её формированию?



Ответ: Гора
Из-за дождей и ветров

4. Горы Кордильеры образовались в зоне взаимодействия литосферных плит:

- 1. Северо-Американской и Евроазиатской
- 2. Евроазиатской и Тихоокеанской
- 3. Северо-Американской и Африканской
- 4. Тихоокеанской и Северо-Американской

+

5. Воздействие текучих вод на поверхность земли приводит к образованию

- 1. моренных холмов
- 2. овражно-балочной сети
- 3. дюн и барханов
- 4. лавовых плато

6. 23 сентября солнечные лучи падают под углом 90° на земную поверхность в районе

- 1. северного тропика
- 2. южного тропика
- 3. экватора
- 4. северного полярного круга

+

7. Какой признак объединяет реки Волгу, Дон, Оку и Миссисипи?

1. равнинный характер течения 3. географическое положение
2. горный характер течения 4. направление течения

8. Самым восточным морем Атлантического океана является...

1. Саргассово 2. Средиземное 3. Балтийское 4. Черное

9. Чем объясняется мягкость климата Западной Европы?

- А) широтным положением Западной Европы;
Б) близостью Западной Европы к Атлантическому океану;
В) меридиональным положением Западной Европы;
Г) расположением Западной Европы в северном полушарии.

10. Жители какой из перечисленных стран до сих пор ведут кочевой образ жизни?

1. Аргентина 2. Габон 3. Монголия 4. Тайланд

11. В каком из названных морей Атлантического океана добывают нефть?

1. в Саргассовом 2. в Северном 3. в Балтийском 4. в море Уэдделла

12. Концентрация какого элемента в воде Мирового океана наибольшая?

- А) золото Б) натрий В) кремний Г) кальций

13. Чем, прежде всего, знаменита Куршская коса? Выбрать ДВА правильных ответа (по 1 б. за каждый правильный ответ).

- А) Только здесь в Калининградской области водится пятнистый олень
Б) Дюнные комплексы, достигающие высоты 40-50 м
В) Здесь проходит старая железная дорога, чей возраст превышает 200 лет
Г) Через косу проходит миграционный путь птиц

14. Какое кругосветное авиапутешествие будет короче?

1. по экватору 3. по параллели 40°
2. по параллели 70° 4. по начальному меридиану

15. Определите по описанию, о какой стране идёт речь:

«Название этой страны буквально означает «ледяная». Но эта страна не только льда, но и гейзеров, и вулканов, с многочисленными лавовыми полями. Численность населения очень небольшая, национальный состав однороден».

1. Норвегия 2. Швеция 3. Исландия 4. Ирландия

Всего за тестовый тур – 16 баллов.

Итого 55 баллов

теор. тур			тестовый тур															ИТОГО
1	2	3	1	2	3	4	5	6	7	8	9	10	11	12	13	14	15	
15	6	3	1	1	0	1	0	1	1	0	1	0	0	0	2	0	1	33

Жюри _____

подпись и расшифровка подписи

60%
1 м