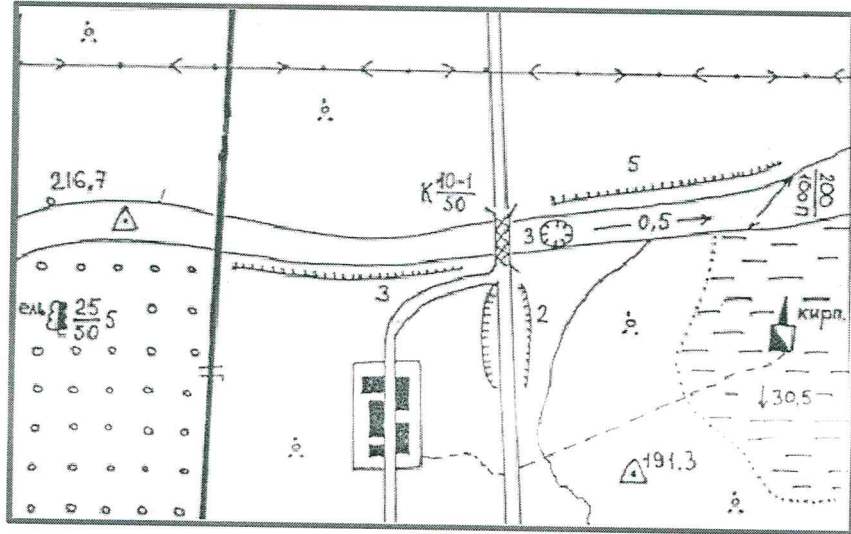


Шифр 7-г- 02

Теоретический тур (39 баллов)

Задание 1. (количество баллов – 15)

Что на данной топографической карте изображено **НЕПРАВИЛЬНО**



Ответы: На приведённой топографической карте изображено неправильно:

- + 1. На реке изображена яма
- + 2. Ширина реки указана не верно
- + 3. В болоте стоит кирпичный завод
- + 4. Длина моста меньше, ширина реки.
- + 5. Дерево не правильно подписано, ель не является мштанником деревом.
- + 6. Болото не может быть такое глубокое
- + 7. Ель не может быть 50м шириной
8. Ширина дороги не может быть 1м, машина не проедет.
- 9.
- 10.
- 11.
- 12.
- 13.
- 14.
- 15.

За каждое замечание – по 1 баллу, максимум – 15 б.

Задание 2 (количество баллов – 21)

Найдите в Европе три полуострова, если известно, что

- 1) первый из них омывается четырьмя морями двух океанов,
- 2) второй омывается четырьмя морями одного океана
- 3) третий омывается пятью морями одного океана.

Назовите полуострова и моря. К каким океанам они относятся?

На каком полуострове больше всего стран?

Ответ:

№ п/п	Название полуострова	Название океана	Названия морей
1. +	Скандинавский	+ Северно-Ледовитый океан + Атлантический океан	+ Баренцево море, + Гренландское море, + Норвежское море, + Северное море. +
2.			
3.			

Больше всего стран на _____ полуострове.

За каждый правильный ответ – по 1 б.

Задание 3 (количество баллов – 3)

Н.С. Гумилёв в своём стихотворении описал некую природную зону:

*А кругом на равнинах,
 Где трава укрывает жирафа,

 Он раскинул тенистые рощи
 Прихотливых мимоз и акаций,
 Рассадил по холмам баобабы,
 В галереях лесов, где прохладно
 И светло, как в дорическом храме,
 Он провёл многоводные реки...*

- а) О какой природной зоне идёт речь?
- б) В каком климатическом поясе она находится?
- в) На каком материке она расположена?

Ответ:

+ а) Саванна, редколесья и кустарники.

+ б) Субэкваториальный пояс

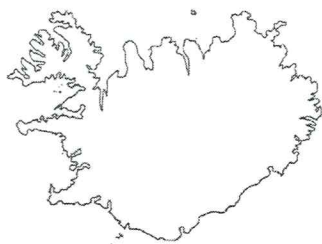
+ в) Африка

Всего за теоретический тур – 39 баллов

Шифр 7-г-

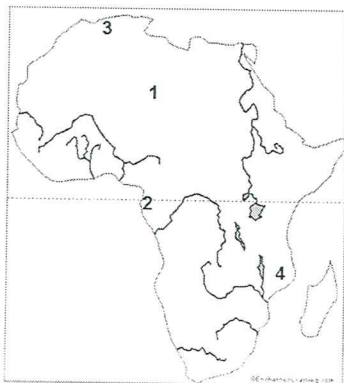
Тестовый тур (за каждое правильно выполненное задание – 1 б.)

Обведите правильный ответ (Например: (С) 5)



+ 1. Определите страну по изображению её контура:


- А) Япония
- Б) Филиппины
- В) Куба
- Г) Исландия



+ 2. Какой цифрой обозначена наиболее сухая область Африки?

- А) 1
- Б) 2
- В) 3
- Г) 4

3. Как называется такая форма рельефа? Какие процессы привели к ее формированию?



Ответ: Утёсы, горы, ветра и осадков.

4. Горы Кордильеры образовались в зоне взаимодействия литосферных плит: +

- 1. Северо-Американской и Евроазиатской
- 2. Евроазиатской и Тихоокеанской
- 3. Северо-Американской и Африканской
- 4. Тихоокеанской и Северо-Американской

5. Воздействие текучих вод на поверхность земли приводит к образованию

- 1. моренных холмов
- 2. овражно-балочной сети
- 3. дюн и барханов
- 4. лавовых плато

+ 6. 23 сентября солнечные лучи падают под углом 90° на земную поверхность в районе

- 1. северного тропика
- 2. южного тропика
- 3. экватора
- 4. северного полярного круга

7. Какой признак объединяет реки Волгу, Дон, Оку и Миссисипи?

1. равнинный характер течения ③ географическое положение
2. горный характер течения 4. направление течения

8. Самым восточным морем Атлантического океана является...

1. Саргассово ② Средиземное 3. Балтийское 4. Черное

+ 9. Чем объясняется мягкость климата Западной Европы?

- А) широтным положением Западной Европы;
⑥ близостью Западной Европы к Атлантическому океану;
В) меридиональным положением Западной Европы;
Г) расположением Западной Европы в северном полушарии.

10. Жители какой из перечисленных стран до сих пор ведут кочевой образ жизни?

1. Аргентина ② Габон 3. Монголия 4. Тайланд

11. В каком из названных морей Атлантического океана добывают нефть?

1. в Саргассовом 2. в Северном ③ в Балтийском 4. в море Уэдделла

12. Концентрация какого элемента в воде Мирового океана наибольшая?

- А) золото Б) натрий В) кремний ① кальций

+ 13. Чем, прежде всего, знаменита Куршская коса? Выбрать ДВА правильных ответа (по 1 б. за каждый правильный ответ).

- ① Только здесь в Калининградской области водится пятнистый олень
⑥ Дюнные комплексы, достигающие высоты 40-50 м
В) Здесь проходит старая железная дорога, чей возраст превышает 200 лет
Г) Через косу проходит миграционный путь птиц

14. Какое кругосветное авиапутешествие будет короче?

1. по экватору ③ по параллели 40°
2. по параллели 70° 4. по начальному меридиану

+ 15. Определите по описанию, о какой стране идёт речь:

«Название этой страны буквально означает «ледяная». Но эта страна не только льда, но и гейзеров, и вулканов, с многочисленными лавовыми полями. Численность населения очень небольшая, национальный состав однороден».

1. Норвегия 2. Швеция ③ Исландия 4. Ирландия

Всего за тестовый тур – 16 баллов.

Итого 55 баллов

теор. тур			тестовый тур															ИТОГО
1	2	3	1	2	3	4	5	6	7	8	9	10	11	12	13	14	15	
7	6	3	1	1	0	1	0	1	0	0	1	0	0	0	1	0	1	23

Жюри

подпись и расшифровка подписи

41,82%

24