

Шифр	9-г- 04
------	---------

9 класс. Теоретический тур

Задание 1 (25 баллов)

Выберите из списка топонимы (географические названия), относящиеся к России:

Абакан, Балхаш, Баскунчак, Витим, Гиндукуш, Днепр, Ереван, Женева, Зее, Иртыш, Когалым, Колыма, Лена, Малоземельская тундра, Нарьян-Мар, Общий Сырт, По, Рудольфа, Саяны, Тана, Усури, Флорида, Харьков, Хибинь, Цимлянское, Шпицберген, Эри, Эверест, Юкатан.

Распределите их по группам:

- 1) горы: Эверест, Гиндукуш, Саяны, Хибинь 3
- 2) равнины: Малоземельская тундра, Общий Сырт, Шпицберген, Юкатан 3
- 3) реки: Днепр, Иртыш, Лена, Колыма, По, Усури 3
- 4) озера: Балхаш, Баскунчак, Рудольфа, Саяны, Тана, Цимлянское, Эри 0
- 5) города: Ереван, Флорида, Харьков, Абакан, Витим, Женева, Зее, Когалым, Нарьян-Мар 2

Задание 2 (8 баллов)

Установите соответствие «денежная единица – страна»:

Денежная единица	Страна
1) сомони	А) Япония
2) лира	Б) Казахстан
3) крона	В) Индия
4) манат	Г) Чехия
5) гривна	Д) Таджикистан
6) тенге	Е) Азербайджан
7) йена	Ж) Украина
8) рупия	З) Турция

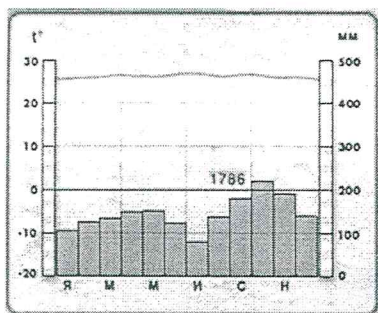
Ответы:

Денежная единица	Страна
1) сомони	Д +
2) лира	З +
3) крона	Г +
4) манат	Е +
5) гривна	Ж +
6) тенге	Б +
7) йена	А +
8) рупия	В +

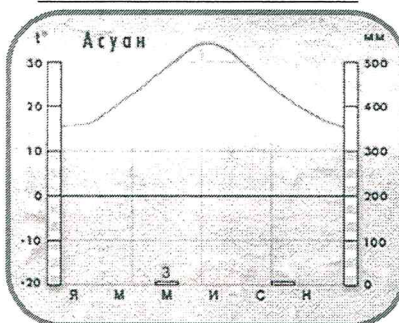
Задание 3 (12 баллов)

Подписать над каждой климатограммой название климатического пояса. Климатограммы построены для Африканского континента.

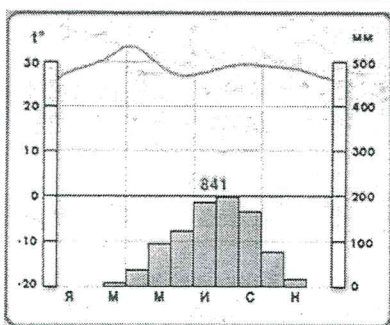
1. _____



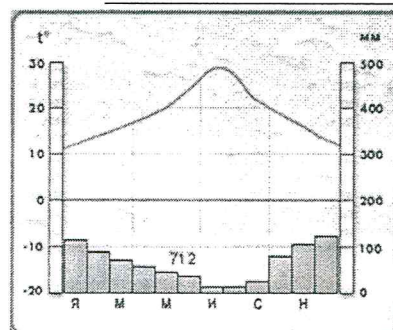
3. _____



2. _____



4. _____



ИТОГО ЗА ТЕОРЕТИЧЕСКИЙ ТУР – 45 Б.

Тестовый тур (20 баллов)

1. (1 балл) Какое утверждение о географическом положении России является **НЕВЕРНЫМ**?

- а) Протяжённость территории России с запада на восток больше, чем с севера на юг
- б) На востоке граница России проходит по реке Амур
- в) На Кавказе Россия граничит с двумя странами
- г) Территория России с запада омывается морями Атлантического океана

2. (1 балл) В каком из перечисленных городов России зимы наиболее холодные?

- а) Владивосток 17
- б) Астрахань 18
- в) Красноярск 21
- г) Краснодар 25

3. (1 балл) В каком из перечисленных городов 22 июня продолжительность дня наибольшая?

- а) Санкт-Петербург
- б) Мурманск
- в) Сочи
- г) Ханты-Мансийск

4. (1 балл) Выберите строчку, где перечислены города России - центры льняной промышленности:

- А) Мурманск, Архангельск, Москва, Санкт-Петербург
 Б) Иваново, Шуя, Псков, Кострома
 В) Оренбург, Вологда, Ярославль, Кострома
 Г) Псков, Вологда, Кострома, Ростов-на-Дону

++ 5. (2 балла) Выберите из предложенного списка две страны, имеющие общие границы с Россией.

а)	Турция	г)	Абхазия
б)	Киргизия	д)	КНДР
в)	Республика Корея	е)	Германия

+ 6. (1 балл) Расставьте по возрастанию численности населения:

- А) Калининград Б) Полесск В) Гусев Г) Советск

Ответ: Б, В, Г, А

7. (3 балла) Впишите специализацию из предложенных:

Центры производства	Вид продукции/отрасль промышленности
А) Брянск, Людиново, Коломна +	1) <u>Тепловозы</u>
Б) Москва и Московская область (г. Жуковский), Ульяновск, Казань, Самара, Саратов, Новосибирск, Нижний Новгород +	2) <u>Гражданское и военное самолетостроение</u>
В) Братск (Иркутская область), Кондопога (Республика Карелия), Неман (Калининградская обл.), Волжск Республика Марий-Эл, Сыктывкар (Республика Коми). +	3) <u>Целлюлозно-бумажная промышленность</u>

- Тепловозы
- Гражданское и военное самолетостроение
- Целлюлозно-бумажная промышленность

8. (1 балл) Эти пояса придумал директор школы Чарльз Дауд, а воплотить замысел помог Сэндфорд Флеминг – инженер, создавший железнодорожную сеть Канады. Не так давно в России эти пояса были пересмотрены и сокращены. О каких поясах идёт речь?

Ответ:

9. (3 балла) Выбрать верные утверждения:

- А) Россия является одним из самых многонациональных государств мира. Самым многочисленным народом в России являются русские;
- Б) В России проживает более 100 народов и народностей, принадлежащих в основном к четырём языковым семьям: индоевропейской (87 % населения), алтайской (8 %), уральской (2 %) и северокавказской (2 %);
- В) На Северном Кавказе практически все народы (кроме осетин) - приверженцы ислама;
- Г) По сходству языков народы России относят к 2 языковым семьям; индоевропейской (89% населения) и кавказской (11%).

10. (1 балл) Самые плодородные почвы в России распространены в:

а) в южной части степной зоны	в) в поймах южных рек
б) в районах орошаемого земледелия	г) лесостепной и северной части степной зоны

11. (1 балл) Какой вид бумаги называют «экологическая бумага»?

- а) получаемый из отходов лесопереработки
- б) произведенная на 100% из макулатуры
- в) легкоразлагающаяся бумага при вторичной переработке
- г) произведенная из искусственных неорганических материалов

12. (1 балл) На территорию какого экономического района приходится около половины валового сбора сахарной свёклы в России?

- А) Центрально-Чернозёмного; В) Северо-Западного;
- Б) Западно-Сибирского; Г) Центрального.

13. (1 балл) Что объединяет города: Санкт-Петербург, Таллин, Рига,

Калининград, Гданьск, Сопот?

Ответ: У всех - эти городов омывает Балтийское море

14. (1 балл) Отгадайте реку по описанию:

Река в Европейской части России. Одна из крупнейших рек на Земле и самая большая по длине в Европе. На ней расположены 4 города-миллионера, в т.ч. Самара, Нижний Новгород.

Ответ:

15. (1 балл) Наибольшую долю в структуре выращиваемых в России зерновых культур занимает:

- 1) рожь; 2) овес; 3) ячмень; 4) пшеница.

ВСЕГО ЗА ТЕСТОВЫЙ ТУР – 20 БАЛЛОВ. ИТОГО 65 БАЛЛОВ

теор. тур			тестовый тур															ИТОГО
1	2	3	1	2	3	4	5	6	7	8	9	10	11	12	13	14	15	
11	8	0	0	0	0	0	2	1	3	0	1	0	1	0	1	0	1	29

Жюри _____

подпись и расшифровка подписи

44,62%
3ч