

Всероссийская олимпиада школьников по географии 2020 -2021. Школьный этап.

ВСЕГО – 65 баллов

Шифр	9-г- 05
------	---------

9 класс. Теоретический тур

Задание 1 (25 баллов)

Выберите из списка топонимы (географические названия), относящиеся к России:

Абакан, Балхаш, Баскунчак, Витим, Гиндукуш, Днепр, Ереван, Женева, Зей, Иртыш, Когалым, Колыма, Лена, Малоземельская тундра, Нарьян-Мар, Общий Сырт, По, Рудольфа, Самотлор, Саяны, Тана, Уссури, Флорида, Харьков, Хибинь, Цимлянское, Шпицберген, Эри, Эверест, Юкатан.

Распределите их по группам:

- 1) горы: *Эверест, Гиндукуш*
- 2) равнины:
- 3) реки: *Днепр, Иртыш, Лена 2*
- 4) озера: *Балхаш, Баскунчак 3*
- 5) города: *Зей, Абакан, Харьков, Витим, Ереван, Когалым, Самотлор 3*

Задание 2 (8 баллов)

Установите соответствие «денежная единица – страна»:

Денежная единица	Страна
1) сомони - Д	А) Япония
2) лира - З	Б) Казахстан
3) крона - Г	В) Индия
4) манат - Е	Г) Чехия
5) гривна - Х	Д) Таджикистан
6) тенге - Б	Е) Азербайджан
7) йена - А	Ж) Украина
8) рупия - В	З) Турция

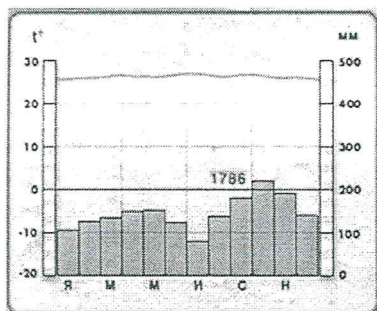
Ответы:

Денежная единица	Страна
1) сомони	Д +
2) лира	З +
3) крона	Г +
4) манат	Е +
5) гривна	Х +
6) тенге	Б +
7) йена	А +
8) рупия	В +

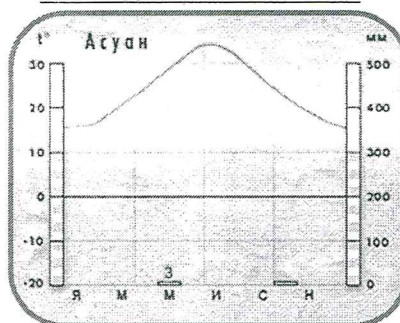
Задание 3 (12 баллов)

Подписать над каждой климатограммой название климатического пояса. Климатограммы построены для Африканского континента.

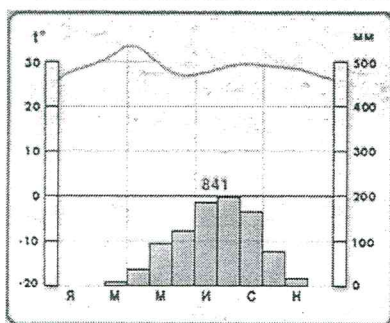
1. _____



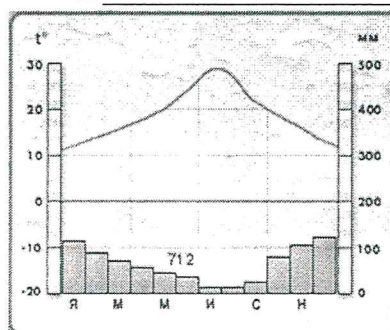
3. Экваториальный



2. _____



4. _____



ИТОГО ЗА ТЕОРЕТИЧЕСКИЙ ТУР – 45 Б.

Тестовый тур (20 баллов)

1. (1 балл) Какое утверждение о географическом положении России является **НЕВЕРНЫМ**?

- а) Протяжённость территории России с запада на восток больше, чем с севера на юг
- б) На востоке граница России проходит по реке Амур
- в) На Кавказе Россия граничит с двумя странами
- г) Территория России с запада омывается морями Атлантического океана

2. (1 балл) В каком из перечисленных городов России зимы наиболее холодные?

- а) Владивосток
- б) Астрахань
- в) Красноярск
- г) Краснодар

3. (1 балл) В каком из перечисленных городов 22 июня продолжительность дня наибольшая?

- а) Санкт-Петербург
- б) Мурманск
- в) Сочи
- г) Ханты-Мансийск

4. (1 балл) Выберите строчку, где перечислены города России - центры льняной промышленности:

- А) Мурманск, Архангельск, Москва, Санкт-Петербург
- Б) Иваново, Шуя, Псков, Кострома
- В) Оренбург, Вологда, Ярославль, Кострома
- Г) Псков, Вологда, Кострома, Ростов-на-Дону

5. (2 балла) Выберите из предложенного списка две страны, имеющие общие границы с Россией.

а)	Турция	г)	Абхазия
б)	Киргизия	д)	КНДР
в)	Республика Корея	е)	Германия

6. (1 балл) Расставьте по возрастанию численности населения:

- А) Калининград
- Б) Полесск
- В) Гусев
- Г) Советск

Ответ: АГВБ

7. (3 балла) Впишите специализацию из предложенных:

Центры производства	Вид продукции/отрасль промышленности
А) Брянск, Людиново, Коломна	1) <i>Тепловозы</i>
Б) Москва и Московская область (г. Жуковский), Ульяновск, Казань, Самара, Саратов, Новосибирск, Нижний Новгород	2) <i>Машиностроение</i>
В) Братск (Иркутская область), Кондопога (Республика Карелия), Неман (Калининградская обл.), Волжск Республика Марий-Эл, Сыктывкар (Республика Коми).	3) <i>Бумага</i>

- Тепловозы
- Гражданское и военное самолётостроение
- Целлюлозно-бумажная промышленность

8. (1 балл) Эти пояса придумал директор школы Чарльз Дауд, а воплотить замысел помог Сэндфорд Флеминг – инженер, создавший железнодорожную сеть Канады. Не так давно в России эти пояса были пересмотрены и сокращены. О каких поясах идёт речь?

Ответ: *Лесные леса*

+ 9. (3 балла) Выбрать верные утверждения:

- А) Россия является одним из самых многонациональных государств мира. Самым многочисленным народом в России являются русские;
- Б) В России проживает более 100 народов и народностей, принадлежащих в основном к четырём языковым семьям: индоевропейской (87 % населения), алтайской (8 %), уральской (2 %) и северокавказской (2 %);
- В) На Северном Кавказе практически все народы (кроме осетин) - приверженцы ислама;
- Г) По сходству языков народы России относят к 2 языковым семьям; индоевропейской (89% населения) и кавказской (11%).

10. (1 балл) Самые плодородные почвы в России распространены в:

а) в южной части степной зоны	<input checked="" type="checkbox"/> в) в поймах южных рек
<input checked="" type="checkbox"/> б) в районах орошаемого земледелия	г) лесостепной и северной части степной зоны

11. (1 балл) Какой вид бумаги называют «экологическая бумага»?

- а) получаемый из отходов лесопереработки
- в) легкоразлагающаяся бумага при вторичной переработке
- б) произведенная на 100% из макулатуры
- г) произведенная из искусственных неорганических материалов

12. (1 балл) На территорию какого экономического района приходится около половины валового сбора сахарной свёклы в России?

- А) Центрально-Чернозёмного; В) Северо-Западного;
- Б) Западно-Сибирского; Г) Центрального.

+ 13. (1 балл) Что объединяет города: Санкт-Петербург, Таллин, Рига, Калининград, Гданьск, Сопот?

Ответ: Прибалтика

14. (1 балл) Отгадайте реку по описанию:

- Река в Европейской части России. Одна из крупнейших рек на Земле и самая большая по длине в Европе. На ней расположены 4 города-миллионера, в т.ч. Самара, Нижний Новгород.

Ответ: Волга

+ 15. (1 балл) Наибольшую долю в структуре выращиваемых в России зерновых культур занимает:

- 1) рожь; 2) овес; 3) ячмень; 4) пшеница.

ВСЕГО ЗА ТЕСТОВЫЙ ТУР – 20 БАЛЛОВ. ИТОГО 65 БАЛЛОВ

теор. тур			тестовый тур															ИТОГО
1	2	3	1	2	3	4	5	6	7	8	9	10	11	12	13	14	15	
8	8	0	0	1	0	0	1	0	3	1	1	0	0	1	1	1	1	27

Жюри _____

подпись и расшифровка подписи

41,54%

4ч