

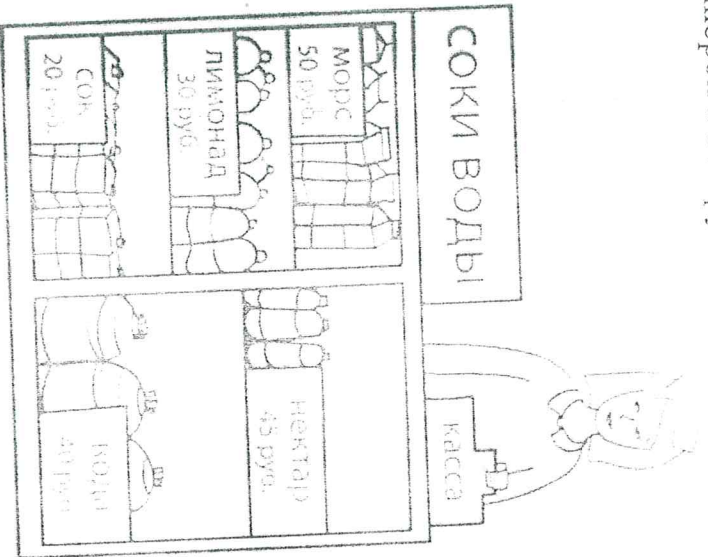
Уважаемые школьники, Вам предлагаются задания, соответствующие требованиям к уровню знаний обучающихся образовательных учреждений в предметной области «Экономика».

Время выполнения заданий — 60 минут.

Будьте внимательны, отвечая на поставленные задания и решая рассматриваемые задачи.

Желаем удачи!

**Задание 1.** Рассмотрите рисунок и ответьте на вопрос: сколько рублей сдачи получит покупатель, расплатившись за одну бутылку нектара и один пакет морса купюрой в 500 руб.?



1)  $50 + 45 = 95$  (руб) - сумма сдачи  
и морс

2)  $500 - 95 = 405$  (р) - сдачи

Ответ: 405 рублей сдачи  
получит покупатель.

25.

**Задание 2.** Артур хочет купить машинки (все они стоят одинаково). Если он купит семь машинок, то у него останется 100 руб., а до покупки девяти машинок у него не хватает 20 руб. Сколько стоит одна машинка? 15 рублей

05.

**Задание 3.** Самолёт из Уфы в Москву вылетает в 13 ч 50 мин. по московскому времени. В какое время самолёт окажется в Москве, если длительность полёта составляет 2 ч 30 мин.? В ответе укажите два числа часы и минуты, через двоеточие. Пример: 13:25.

15.

**Задача 4.** Мама купила пять упаковок печенья и пять упаковок зефира общим весом 4 кг. Сколько весила одна упаковка зефира, если одна упаковка печенья весила 200 г?

25

$4000 - 200 = 3800$  (г) - зефир  
 $3800 : 5 = 760$  (г) - вес одной упаковки зефира  
 $200 + 760 = 960$  (г) - вес одной упаковки печенья  
 $4000 : 5 = 800$  (г) - вес одной упаковки зефира  
 $800 - 960 = -160$  (г) - вес одной упаковки зефира

7-4-04

Школьный этап всероссийской олимпиады школьников

по экономике

2020-2021 учебный год

4 класс

**Задача 5.** Номер телефона Светы состоит из семи цифр, причём каждая следующая цифра (при чтении слева направо) больше предыдущей. В записной книжке её подруги Настя Светин номер телефона размылся, поэтому теперь там видно только то, что первая цифра её номера – «2», а четвёртая – «5». Какая цифра в Светинном номере телефона идёт второй? *3*

25

**Задание 6.** При записи номеров страниц в детской книге было использовано 177 цифр (страницы нумеруются с первой). Сколько страниц в книге? *178*

06

**Задание 7.** Два года назад Марк устроился на работу в крупную международную корпорацию, занимающуюся продажей товаров народного потребления. Пройдя по карьерной лестнице вверх, месяц назад Марк получил должность руководителя важного корпоративного отдела.

Как Вы думаете, каким образом Марк выбирает сотрудников для делегирования задач? Выберите из представленных один верный ответ.

08

- 1) Марк делегирует самым сильным членам своей команды.
- 2) Марк подбирает сотрудников по компетенциям.
- 3) Марк учитывает глубинные ценности сотрудников.

**Задание 8.** Марк выделяется на фоне своих коллег, прежде всего, своей фантастической способностью присоединяться к работе над проектами компании, которые приносят ей максимальную прибыль. Как Марк выбирает максимально прибыльные для компании проекты?

Выберите их предложенных один правильный ответ.

- 1) Марк оценивает проекты с точки зрения последствий для своей карьеры.
- 2) Марк консультируется с руководством компании.
- 3) Марк оценивает проекты с точки зрения последствий для бизнеса.

15

**Задание 9.** Цена телевизора была повышена на 21% и составила 12130 руб. Какова была цена телевизора до повышения цены? Запишите ответ в виде целого числа или десятичной дроби. *10000*

08

**Задание 10.** Выберите один правильный ответ из тестового задания:

Уровень экономического развития страны характеризует показатель:

- А) ВВП на душу населения в год.
- Б) доля обрабатывающей промышленности в объёме промышленной продукции.
- В) торговый баланс страны.

15

2020-2021 учебный год

4 класс

Задание 11. В настоящее время более 70% мирового экспорта товаров и услуг обеспечивают страны:

- А) развивающиеся;
- Б) промышленно развитые;
- В) страны с переходной экономикой;
- Г) развивающиеся страны и страны переходной экономики в совокупности.

05

Задание 12.

Евроквота – это:

- А) европейская условная расчетная единица;
- Б) любая денежная единица, которая вложена в кредитные учреждения за пределами страны происхождения валюты;
- В) евро.

15

Задание 13.

Если страны обеспечивают отмену таможенных пошлин во взаимной торговле, вводят единый внешний тариф в отношении третьих лиц, но сохраняют взаимные ограничения на движение капиталов и рабочей силы, то это:

- А) таможенный союз;
- Б) зона свободной торговли;
- В) экономический союз.

05

Задание 14. Определите по описанию, о каком государстве Европейского Союза идёт речь?

Самая маленькая и самая южная скандинавская страна. По сути граничит только с Германией. Большую часть года преобладают сильные ветра, но благодаря теплоте воздуха Гольфстрим в стране зимний период довольно мягкий и тёплый. Экономика страны почти полностью зависит от импортного сырья и внешней торговли и одна из самых устойчивых экономических систем в Европе. В стране низкий уровень инфляции и достаточно стабильная валюта.

05





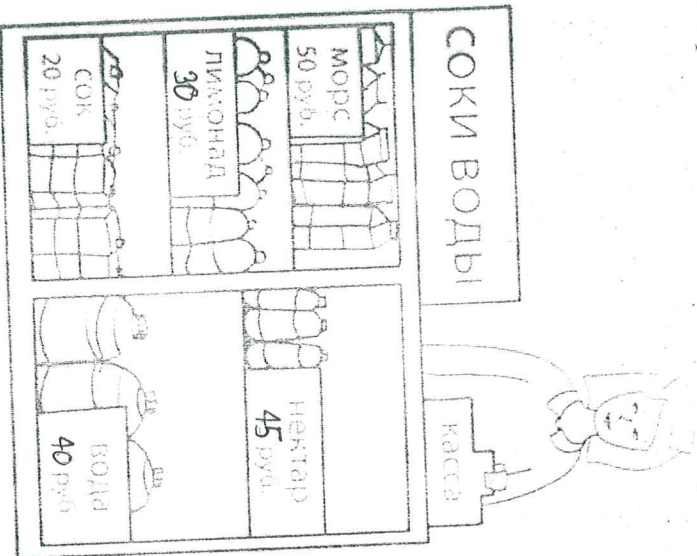
Уважаемые школьники, Вам предлагаются задания, соответствующие требованиям к уровню знаний обучающихся образовательных учреждений в предметной области «Экономика».

Время выполнения заданий — 60 минут.

Будьте внимательны, отвечая на поставленные задания и решая рассматриваемые задачи.

Желаем удачи!

**Задание 1.** Рассмотрите рисунок и ответьте на вопрос: сколько рублей сдачи получит покупатель, расплатившись за одну бутылку нектара и один пакет морса купюрой в 500 руб.?



1)  $45 + 50 = 95$  (руб.) - сдачу морс и нектар.

2)  $500 - 95 = 405$  (руб.) - сдачу нектара и морса.

Ответ: 405 рублей сдачи нектару и морсу.

3)  $100 + 20 = 120$  (руб.) - сдачу сока и лимонада.  
1)  $9 - 2 = 7$  (руб.) - сдачу морса.  
2)  $190 : 2 = 95$  (руб.) - сдачу лимонада.  
3)  $190 : 2 = 95$  (руб.) - сдачу сока.

**Задание 2.** Артур хочет купить машинку за 100 руб., а до покупки девяти машинок у него не хватает 20 руб. Сколько стоит одна машинка?

Ответ: одна машинка стоит 95 руб.

**Задание 3.** Самолёт из Уфы в Москву вылетает в 15 ч 50 мин. по московскому времени. В какое время самолёт окажется в Москве, если длительность полёта составляет 2 ч 30 мин.? В ответе укажите два числа часы и минуты, через двоеточие. Пример: 13:25.

Ваг.: 20 мин.

Ответ: 16ч.: 20 мин.

**Задача 4.** Мама купила пять упаковок печенья и пять упаковок зефира общим весом 4 кг. Сколько весила одна упаковка зефира, если одна упаковка печенья

весит 200 г? 1)  $200 \cdot 5 = 1000$  (г) - весит печенье. 2)  $4 \text{ кг} = 4000 \text{ г}$  - весит зефир. 3)  $3000 : 5 = 600$  (г) - весит 1 упаковка зефира. 4)  $600 : 5 = 120$  (г) - весит одна упаковка зефира.

45

13

25

25

7-4-01

**Задача 5.** Номер телефона Светы состоит из семи цифр, причём каждая следующая цифра (при чтении слева направо) больше предыдущей. В записной книжке её подруги Настя Светлин номер телефона размысла, поэтому теперь там видно только то, что первая цифра её номера – «2», а четвёртая – «5». Какая цифра в Светином номере телефона идёт второй? *Ответ: 3.* 25

**Задание 6.** При записи номеров страниц в детской книге было использовано 177 цифр (страницы нумеруются с первой). Сколько страниц в книге? *Ответ: 174 08.* 15.  
*Страницы.*

**Задание 7.** Два года назад Марк устроился на работу в крупную международную корпорацию, занимающуюся продажей товаров народного потребления. Пройдя по карьерной лестнице вверх, месяц назад Марк получил должность руководителя важного корпоративного отдела.

Как Вы думаете, каким образом Марк выбирает сотрудников для делегирования задач? Выберите из представленных один верный ответ.

- 1) Марк делегирует самым сильным членам своей команды.
- 2)  Марк подбирает сотрудников по компетенциям. 15.
- 3) Марк учитывает глубинные ценности сотрудников.

**Задание 8.** Марк выделяется на фоне своих коллег, прежде всего, своей фантастической способностью присоединяться к работе над проектами компаний, которые приносят ей максимальную прибыль. Как Марк выбирает максимально прибыльные для компании проекты? Выберите их предложенных один правильный ответ.

- 1) Марк оценивает проекты с точки зрения последствий для своей карьеры. 05.
- 2)  Марк консультируется с руководством компании.
- 3) Марк оценивает проекты с точки зрения последствий для бизнеса.

**Задание 9.** Цена телевизора была повышена на 21% и составила 12130 руб. Какова была цена телевизора до повышения цены? Запишите ответ в виде целого числа или десятичной дроби. *10030.* 05.

**Задание 10.** Выберите один правильный ответ из тестового задания:

Уровень экономического развития страны характеризует показатель:

- A) ВВП на душу населения в год.
- Б)  доля обрабатывающей промышленности в объёме промышленной продукции. 05.
- В) торговый баланс страны.



**Задание 11.** В течение времени более 70% мирового экспорта товаров и услуг обеспечивают страны:

- А) развивающиеся;
- Б) промышленно развитые;**
- В) страны с переходной экономикой;
- Г) развивающиеся страны и страны переходной экономики в совокупности.

15.

**Задание 12.**

Евровалюта – это:

- А) европейская условная расчетная единица;**
- Б) любая денежная единица, которая вложена в кредитные учреждения за пределами страны происхождения валюты;
- В) евро.

05

**Задание 13.**

Если страны обеспечивают отмену таможенных пошлин во взаимной торговле, вводят единый внешний тариф в отношении третьих лиц, но сохраняют взаимные ограничения на движение капиталов и рабочей силы, то это:

- А) таможенный союз;**
- Б) зона свободной торговли;
- В) экономический союз.

15

**Задание 14.** Определите по описанию, о каком государстве Европейского Союза идёт речь?

Самая маленькая и самая южная скандинавская страна. По суше граничит только с Германией. Большую часть года преобладают сильные ветра, но благодаря тем ветрам особенно Гольфстрим в стране зимний период довольно сырым и теплой. Экономика страны почти полностью зависит от импортного сырья и внешней торговли и одна из самых устойчивых экономических систем в Европе. В стране низкий уровень инфляции и достаточно стабильная валюта.

*Соединившись.*

05





Уважаемые школьники, Вам предлагаются задания, соответствующие требованиям к уровню знаний обучающихся образовательных учреждений в предметной области «Экономика».

**Время выполнения заданий — 60 минут.**

Будьте внимательны, отвечая на поставленные задания и решая рассматриваемые задачи.

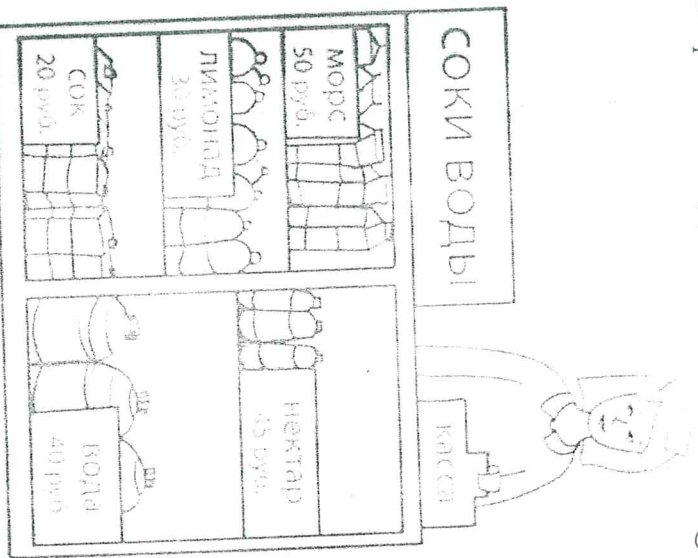
**Желаем удачи!**

**Задание 1.** Рассмотрите рисунок и ответьте на вопрос: сколько рублей сдачи получит покупатель, расплатившись за одну бутылку нектара и один пакет морса купюрой в 500 руб.?

$$500 - 50 - 45 = 405 \text{ р.}$$

Ответ: 405 рублей сдачи  
сдачи не требуется.

25.



**Задание 2.** Артур хочет купить машинки (все они стоят одинаково). Если он купит семь машинок, то у него останется 100 руб., а до покупки девяти машинок у него не хватает 20 руб. Сколько стоит одна машинка? 40 рублей

05.

**Задание 3.** Самолёт из Уфы в Москву вылетает в 13 ч 50 мин. по московскому времени. В какое время самолёт окажется в Москве, если длительность полёта составляет 2 ч 30 мин.? В ответе укажите два числа часы и минуты, через двоеточие. Пример: 13:25. Ответ: 16ч 20шк.

15.

**Задача 4.** Маша купила пять упаковок печенья и пять упаковок зефира общим весом 4 кг. Сколько весила одна упаковка зефира, если одна упаковка печенья весила 200 г? Ответ: 600 грамм  
весит 600 грамм  
печенье 200 г - 5 = 1000 г - 5 = 5000 г - 5 = 4000 г  
2) 4000 г - 1000 г = 3000 г - 5 = 600 г  
3) 3000 г : 5 = 600 г - 1 упаковка с зефиром.

45

7 - 4 - 02

Школьный этап всероссийской олимпиады школьников  
по экономике  
2020-2021 учебный год  
4 класс

**Задача 5.** Номер телефона Светы состоит из семи цифр, причём каждая следующая цифра (при чтении слева направо) больше предыдущей. В записной книжке её подруги Настя Светин номер телефона размылся, поэтому теперь там видно только то, что первая цифра её номера – «2», а четвёртая – «5». Какая цифра в Светинном номере телефона идёт второй? **25.**

**Задание 6.** При записи номеров страниц в детской книге было использовано 177 цифр (страницы нумеруются с первой). Сколько страниц в книге? **144**

**Задание 7.** Два года назад Марк устроился на работу в крупную международную корпорацию, занимающуюся продажей товаров народного потребления. Пройдя по карьерной лестнице вверх, месяц назад Марк получил должность руководителя важного корпоративного отдела.

Как Вы думаете, каким образом Марк выбирает сотрудников для делегирования задач? Выберите из представленных один верный ответ.

- 1) Марк делегирует самым сильным членам своей команды.
- 2) Марк подбирает сотрудников по компетенциям.
- 3) Марк учитывает глубинные ценности сотрудников. **05.**

**Задание 8.** Марк выделяется на фоне своих коллег, прежде всего, своей фантастической способностью присоединяться к работе над проектами компании, которые приносят ей максимальную прибыль. Как Марк выбирает максимально прибыльные для компании проекты? Выберите их предложенных один правильный ответ.

- 1) Марк оценивает проекты с точки зрения последствий для своей карьеры.
- 2) Марк консультируется с руководством компании. **05.**
- 3) Марк оценивает проекты с точки зрения последствий для бизнеса.

**Задание 9.** Цена телевизора была повышена на 21% и составила 12130 руб. Какова была цена телевизора до повышения цены? Запишите ответ в виде целого числа или десятичной дроби. **05**

**Задание 10.** Выберите один правильный ответ из тестового задания:

**Уровень экономического развития страны характеризует показатель:**

- A) ВВП на душу населения в год.
- B) доля обрабатывающей промышленности в объёме промышленной продукции. **05.**
- B) торговый баланс страны.

**Задание 11.** В настоящее время более 70% мирового экспорта товаров и услуг обеспечивают страны:

- А) развиваются;
- Б) промышленно развитые;
- В) страны с переходной экономикой;
- Г) развивающиеся страны и страны переходной экономики в совокупности.

05.

**Задание 12.**

Евровалюта – это:

- А) европейская условная расчетная единица;
- Б) любая денежная единица, которая вложена в кредитные учреждения за пределами страны происхождения валюты;
- В) евро.

08

**Задание 13.**

Если страны обеспечивают отмену таможенных пошлин во взаимной торговле, вводит единый внешний тариф в отношении третьих лиц, но сохраняют взаимные ограничения на движение капиталов и рабочей силы, то это:

- А) таможенный союз;
- Б) зона свободной торговли;
- В) экономический союз.

18

**Задание 14.** Определите по описанию, о каком государстве Европейского Союза идёт речь?

Самая маленькая и самая южная скандинавская страна. По суше граничит только с Германией. Большую часть года преобладают сильные ветра, но благодаря теплому течению Гольфстрим в стране зимний период довольно мягкий и тёплый. Экономика страны почти полностью зависит от импортного сырья и внешней торговли и одна из самых устойчивых экономических систем в Европе. В стране низкий уровень инфляции и достаточно стабильная валюта.

Дания

05.

