

16
Всероссийская олимпиада школьников по географии
2021-2022 учебный год
(4 класс)

4-7-01

1. География – это:

- 1
- А) наука о Земле;
 - Б) наука о Космосе;
 - В) комплекс наук, изучающих природу земной поверхности, распределение на ней природных объектов, население, ее хозяйственную деятельность;
 - Г) наука, изучающая положение Земли во Вселенной.

2. Напиши название страны, в которой ты живешь

2 Россия, столица моей страны Москва

3. Сколько материков на Земле?

- А) 5; Б) 4; В) 8; Г) 6.

4. На каких материках находятся эти страны?

4

Страна	Название материка
Бразилия	Южная Америка
Египет	Африка
Мексика	Северная Америка
Россия	Евразия

5. Определите, в каком из пяти вариантов ответа, верно определён общий признак для четырёх объектов.

Австралия – Америка – Япония – Италия

- А) Австралия – это материк, а все остальные объекты – страны.
Б) Америка – это часть света, а все остальные объекты – материки.
В) Япония – это страна, которая граничит с Россией, а все остальные объекты с ней не граничат.
Г) Италия – это страна в Европе, а все остальные объекты находятся на другом материке.

3 6. Моря каких океанов омывают Россию?

- А) Индийского; Б) Тихого;
 В) Северного Ледовитого; Г) Атлантического.

2 7. Определите верные утверждения:

- А) Поиском полезных ископаемых занимаются геологи.
Б) Солнце вращается вокруг Земли.
В) Полярная звезда указывает на юг.
 Г) 365 дней – это время полного оборота Земли вокруг Солнца.
Д) Компас – это прибор для определения направления ветра.

4-Г-01

Шифр _____

8. Выбери верное определение термину ГЛОБУС:

А) Уменьшенное изображение земной поверхности на плоскости с помощью условных знаков.

Б) Вращающаяся модель земного шара с его картографическим изображением.

В) Прибор для определения сторон света.

Г) Оптический прибор с сильно увеличивающими стёклами для рассматривания предметов.

9. Часть географической оболочки Земли и географического пояса, имеющая характерные составляющие её природные компоненты и процессы: климат, рельеф, гидрологические и геохимические условия, почвы, растительность и животный мир природная зона

10. Узнайте по описанию, о какой природной зоне идёт речь. Выбери верный ответ из предложенных вариантов.

Солнце печёт немилосердно. С вершины бархана, на котором мы стоим, во все стороны видны только сыпучие пески. Кажется, что нас окружают высокие волны внезапно застывшего моря. Правда, вдалеке, у горизонта, очертания барханов расплываются в горячем воздухе.

А) Тайга.

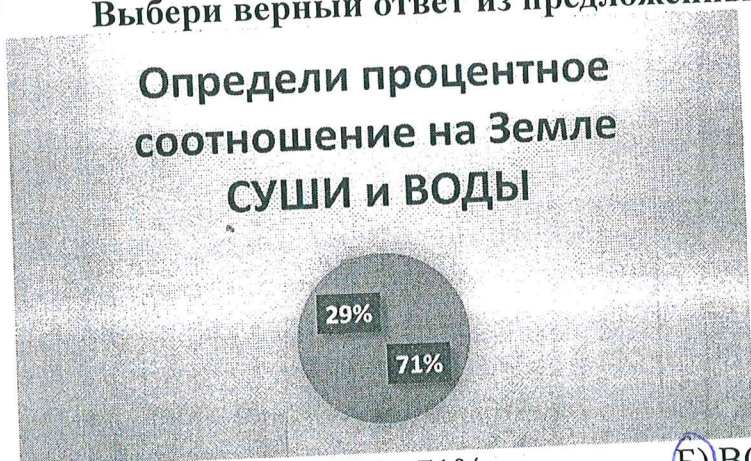
Б) Тундра.

В) Пустыня.

Г) Степь.

11. Определи процентное соотношение на Земле СУШИ и ВОДЫ.

Выбери верный ответ из предложенных вариантов.



А) ВОДА - 29%, СУША - 71%;

Б) ВОДА - 71%, СУША - 29%.

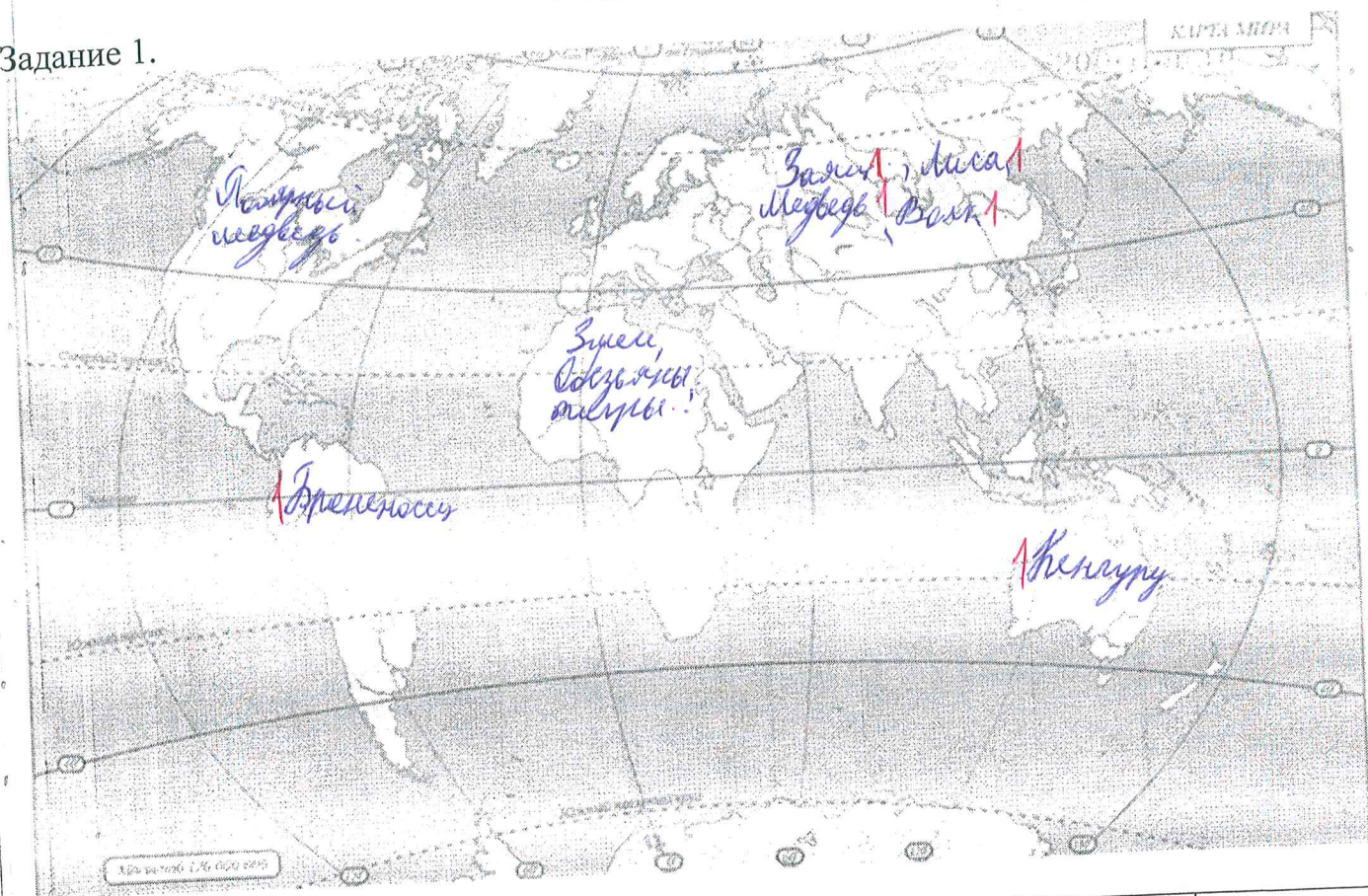
12. Напиши название самой высокой горы России, которая расположена на границе между республиками Кабардино - Балкарией и Карачаево - Черкесией и имеет две вершины - западная и восточная; разница между ними составляет 21 м.

Эльбрус

БЛАНК ОТВЕТОВ
5 класс

Шифр 5-2-03

Задание 1.



Задание 2.

Лунное затмение	Внутреннее строение Земли	Загрязнение морей и океанов	Солевой состав морской воды	Лесные ландшафты Калининградской области	Насекомые лесных экосистем Калининградской области	Изменение атмосферного давления
1. Астрономия	Геология	1. Экология	Химия	Регистрация	Биология 1	Физика 1

Задание 3.

Группа слов	Обобщающие слова	Можно добавить
ПРИМЕР: пустыня, тайга, джунгли	Природная зона	Степь
Уголь, каменная соль, железная руда	Берега	Курь 1
Амазонка, Волга, Енисей	Реки 1	Дон 1
Охотское, Балтийское, Красное	Моря 1	Черное море 1
Горы, равнины, холмы	Поверхности земли	Климат
Север, Северо-Запад, Юг	Все стороны земли	Восток 1

5-2-03

Задание 4.

	Название достопримечательности	В каком городе находится	Назовите ещё одну достопримечательность, расположенную в том же городе
1	Кремль	Москва 0,5	Воробьевы горы 0,5
2	Собор	Каминград 0,5	Рыбная деревня 0,5
3			
4			

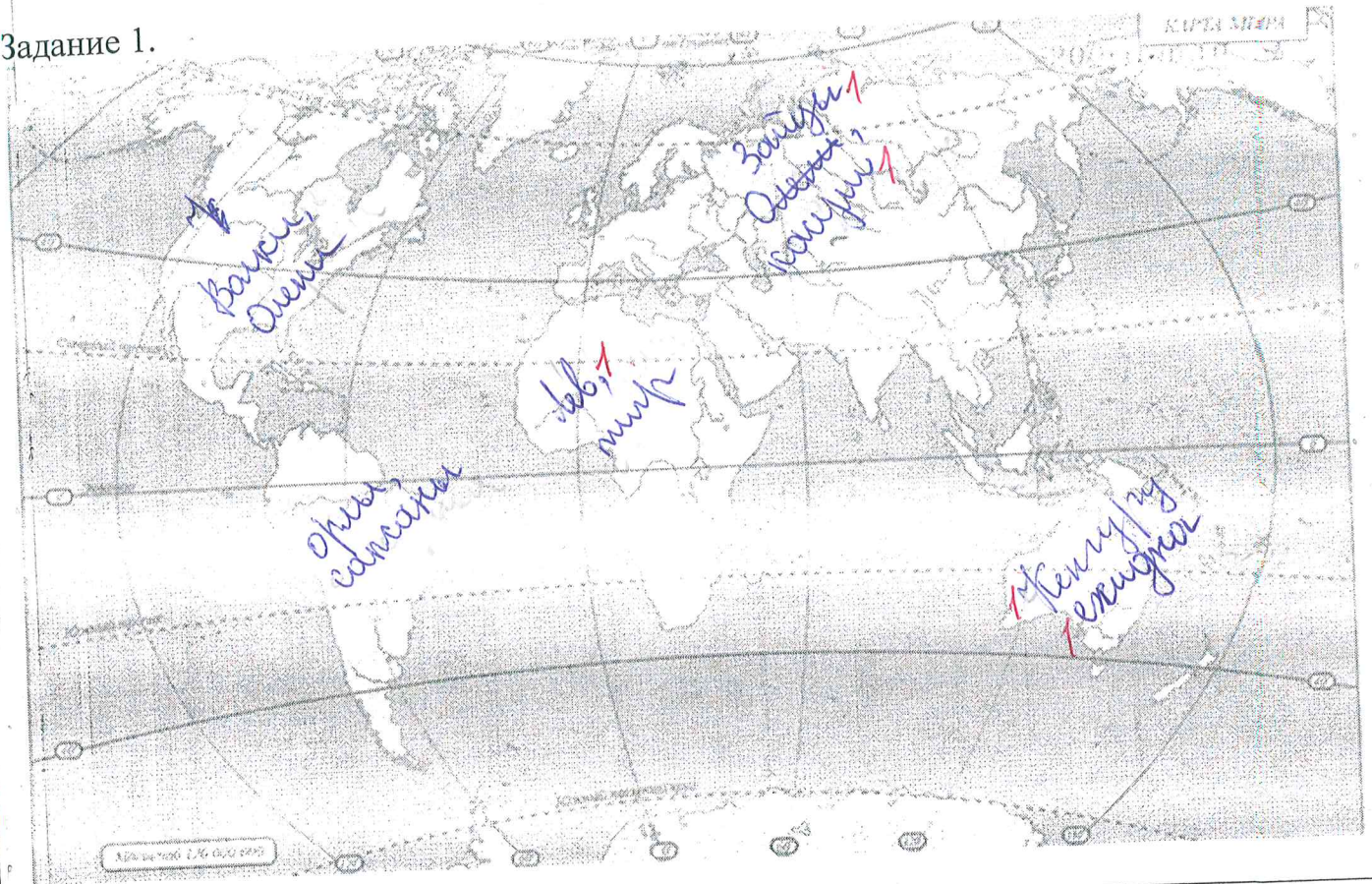
Тест

№ вопроса	Ответ	№ вопроса	Ответ
1	А 0	9	Б 1
2	А 1	10	Многих людей были лошади 0
3	Б 1	11	Б 0
4	А 0	12	Северное сияние 1
5	Г 1	13	Б 1
6	Б 1	14	А 0
7	В 0	15	Беларусия 0
8	Б 0		

БЛАНК ОТВЕТОВ
5 класс

Шифр 5204

Задание 1.



Задание 2.

Лунное затмение	Внутреннее строение Земли	Загрязнение морей и океанов	Солевой состав морской воды	Лесные ландшафты Калининградской области	Насекомые лесных экосистем Калининградской области	Изменение атмосферного давления
Астрономия	геология	экология	химия	физическое география	биология	физика
	1	1	1	1	1	1

Задание 3.

Группа слов	Обобщающие слова	Можно добавить
ПРИМЕР: пустыня, тайга, джунгли	Природная зона	Степь
Уголь, каменная соль, железная руда	1 полезные ископаемые	известняк 1
Амазонка, Волга, Енисей	реки 1	Нил 1
Охотское, Балтийское, Красное	морья (внешние)	Черное море 1
Горы, равнины, холмы	возвышенности	овраги
Север, Северо-Запад, Юг	стороны горизонта	северо-восток 1

Задание 4.

	Название достопримечательности	В каком городе находится	Назовите ещё одну достопримечательность, расположенную в том же городе
1	Кафедральный собор ¹	Калининград ^{0,5}	Памятник Твардовскому 1000 ^{0,5}
2	Собор Василия Блаженного ¹	Москва ^{0,5}	Красная площадь ^{0,5}
3	Красная площадь	Москва	Памятник Тютчеву и Москвитин
4			

Тест

№ вопроса	Ответ	№ вопроса	Ответ
1	Б ¹	9	А ⁰
2	В ⁰	10	Работаем на свободу ⁰
3	Б ¹	11	В ¹
4	Г ¹	12	Веверное умение ¹
5	Г ¹	13	А ⁰
6	Б ¹	14	Б ¹
7	АБ ⁰	15	Польша, Литва, Германия ¹ Восточная.
8	А ⁰		

БЛАНК ОТВЕТОВ,

8 класс

Шифр 8-Г-01

Задание 1.

Калининград - 08:00, Пермь - ~~09:00~~^{11:00}, Владивосток - 16:00

5

Задание 2

Австралия; Бразилия, Испания, Индонезия, Канада

5

Задание 3

Цепочка	«Лишнее звено»	Объяснение
1	Прикаспийская	Все возвышенности, а это низменность. 1
2	Печора	Все реки находятся в восточной части страны
3	Янония 0,5	Все остальные были в составе России (СССР)
4	Саянск	Все остальные - обитатели леса 1

Задание 4

1 Амазонка

2

3 Амурская 0,5

4 Тихий океан

5

6 Лотос

7

Задание 5.

Были быки буйвол, Сибирский лес, вулканы на Камчатке 0,5
 Русская равнина, Тихий океан.
 климатические зоны умеренного пояса, Самолет летел в пределах умеренного климатического пояса. 1,5

8-Г-01

Тест

№ во-проса	Ответ	№ во-проса	Ответ
1	A 1	9	Б 1
2	A 0	10	В 1
3	A 1	11	В 1
4	Г 0	12	В 1
5	A 1	13	A 0
6	Б 1	14	Симметричные 1
7	Г 1	15	Б 1
8	В 1		

9-7-04

строительные материалы - граниты, диабазы, мраморы. Встречаются золото, серебро, алмазы, редкоземельные металлы. Разрабатываются месторождения железной руды, титана, ванадия, молибдена. Разведаны месторождения урановых руд. Преобладают хвойные леса, к северу — сосновые, южнее — и сосновые, и еловые. Основные хвойные породы: сосна обыкновенная и ель обыкновенная.

Ответ: республика Карелия 1

КОЛИЧЕСТВО БАЛЛОВ - 7

ВСЕГО ЗА ТЕОРЕТИЧЕСКИЙ ТУР – 35 БАЛЛОВ

Тестовый тур

Выберите правильный ответ

1. Какой полуостров изображён на космическом снимке?



Ответ: Индия 1

2. Какая из перечисленных равнин имеет наибольшую площадь?

- А) Восточно-Европейская равнина
- Б) Западно-Сибирская низменность
- В) Амазонская низменность
- Г) Великие равнины

1

3. Примером рационального природопользования является?

- А) добыча полезных ископаемых открытым способом в зоне степей
- Б) сплав леса по рекам в таежной зоне
- В) распашка склонов в горных районах
- Г) создание защитных лесополос в зоне степей

0

4. Выберите строчку, где перечислены города России - центры льняной промышленности:

- А) Мурманск, Архангельск, Москва, Санкт-Петербург
- Б) Иваново, Шуя, Псков, Кострома
- В) Шуя, Вологда, Ярославль, Кострома
- Г) Псков, Вологда, Кострома, Великие луки

5. Продолжительность светового дня 23 сентября на Северном полярном круге составляет:

- А) 0 ч
- Б) 12 ч
- В) 24 ч
- Г) 6 ч

6. Расставьте по убыванию численности населения:

- А) Калининград
 - Б) Черняховск
 - В) Гусев
 - Г) Советск
- А Г Б В

7. Для какого из перечисленных регионов характерны формы рельефа, созданные деятельностью ледника?




- А) Приморский край
- Б) Республика Татарстан
- В) Новосибирская область
- Г) Республика Карелия



8. Выберите реку, впадающую в Каспийское море:

- А) Днепр;
- Б) Неман;
- В) Волга;
- Г) Печора.

9. Установите соответствие между изображением полуострова и типичными ландшафтами на фото. Подпишите названия полуостровов:

Ландшафты: тайга, пустыня, средиземноморские жестколистные леса и кустарники.

	<p>Название полуострова: <u>Скандинавский</u> 0,2</p> <p>Название типичных ландшафтов: <u>Тайга</u> 0,2</p>
	<p>Название полуострова: <u>Аравийский</u> 0,2</p> <p>Название типичных ландшафтов: <u>пустыня</u> 0,2</p>
	<p>Название полуострова: <u>Иберийский</u> 0,2</p> <p>Название типичных ландшафтов: <u>средиземноморские жестколистные леса и кустарники</u> 0,2</p>

	<p>Название полуострова: <u>Иберийский</u></p> <p>Название типичных ландшафтов: <u>средиземноморские низкотравные степи</u></p>
	<p>Название полуострова: <u>Камчатка</u> 0,2</p> <p>Название типичных ландшафтов: <u>туфа</u> 0,2</p>

10. На территории какого субъекта РФ находится крайняя южная точка РФ? С каким государством здесь проходит государственная граница РФ?

Ответ: Субъект: Дагестан (0,5 б.) 1
 Государство: Азербайджан (0,5 б.)

11. Выберите второй по численности этнос в России:

- А) белорусы Б) украинцы **В) татары** Г) башкиры 1

12. На каком материке или в каком океане находится точка с координатами 40° с.ш. 100° з.д.?

- А) Евразия Б) Тихий океан **В) Северная Америка** Г) Южная Америка 1

13. Этот ветер характерен для небольших районов, где не очень высокие горы расположены рядом с морем. Сильный, холодный, порывистый местный ветер, возникает когда поток холодного воздуха встречает на своём пути преграду в виде гор, преодолев которую, он с огромной силой обрушивается на побережье. Назовите этот ветер.

- А) фён **Б) сирокко** В) бора Г) самум

14. Какая крайняя материковая точка России имеет западную долготу?

- А) западная** Б) восточная В) северная Г) южная

15. Выберите самый северный город-миллионер:


- А) Берлин Б) Нью-Йорк В) Москва **Г) Санкт-Петербург** 1

ВСЕГО ЗА ТЕСТОВЫЙ ТУР – 15 БАЛЛОВ

ИТОГО 50 БАЛЛОВ

Задание 3

В гавань заходят 5 кораблей. По описанию флагов определите, из каких они государств.



Австралия, 1, Бразилия, 1, Греция, 1, Дания, 1, Канада, 1

КОЛИЧЕСТВО БАЛЛОВ - 5

Задание 4

В 1906 году вышла в свет книга Григория Де-Воллана, посвящённая этой стране. Прочтите некоторые отрывки из этой книги и определите, 1) о какой стране идёт речь. 2) Назовите её столицу. 3) Какие природные особенности этой страны Вам известны?

«...Архипелаг тянется, наподобие виноградной лозы, тремя красивыми фестонами вдоль берегов Сибири и северного Китая. Две трети поверхности заняты горами. Климат является отражением климатических условий соседнего материка, в котором преобладает жаркое влажное лето и холодная ясная зима. Эти условия умеряются морем... так что мы получаем более прохладное лето и более мягкую зиму вместе с большей влажностью, чем на материке. Влажный климат способствует роскошному развитию природы, которая, рядом с субтропическими растениями, бамбуками, пальмами, лаврами, камелиями, даёт хвойные и лиственные породы крайнего севера. Обильные летом дожди также дают возможность земледельцу на юге собирать две жатвы. Среди сельскохозяйственных продуктов рис занимает первое место. Следующими источниками доходов являются чай, хлопок, шёлк, сахар и т.д. Рыбный промысел, наряду с земледелием, играет большую роль...».

1 Япония 2 Токио 3 Расположена на островах, мало природной растительности (железные горы). Морской береговой лес на севере тайга на юге смешанный лес. В климатических зонах, большую часть суши занимают горы, наибольшую влажность составляют тайфуны, и землетрясения.

КОЛИЧЕСТВО БАЛЛОВ - 10

Задание 5

4. Определить по описанию субъект РФ:
 Регион входит в состав Северо-Западного федерального округа. Рельеф равнинный, холмистый, с ледниковыми формами (моренные гряды, озы, камы). Климат мягкий с обилием осадков, меняется от морского к умеренно-континентальному. Зима снежная, прохладная, но обычно без сильных морозов, если морозы наступают, то только на несколько дней. Лето непродолжительное и тёплое, с большим количеством осадков. В регионе имеется 175 месторождений 24-х видов полезных ископаемых. Активно добываются слюда, полевой шпат, кварц, облицовочный камень, а также разнообразные