

И-04-26

Школьный этап всероссийской олимпиады школьников

2021-2022 учебный год

Искусство

4 класс

Время выполнения работы – 60 минут

1. В эту путаницу букв попали музыкальные термины. Найди их и напиши правильные слова (5 баллов)

- 1) РУЮТЕВАР - _____
2) МОНАРС - _____
3) ОНСМИФЯИ - симфония
3 4) НОКЕРЦТ - концерт
5) ЛАТЕБ - баян

2. Найди парные народные инструменты и соедини их: (3 балла)

Гармонь, домра, ложки, балалайка, баян, бубен

- 1) Гармонь - балалайка
2) домра - баян
1 3) ложки - бубен

3. Зачеркни лишнее слово: (1 балл)

пианист, трубоч, флейтист, композитор, скрипач.

4. Как называется произведение художника, посвященное изображению человека или группы людей? (1 балл)

А) гравюра; Б) пейзаж; В) натюрморт; Г) портрет.

5. Что является основным качеством русской народной музыки? (1 балл)

А) маршевость; Б) танцевальность; В) песенность.

6. Автором симфонической сказки «Петя и волк» является... (1 балл)

А) П. Чайковский; Б) М. Глинка;
В) С. Прокофьев; Г) Д. Кабалевский.

7. Зачеркни лишний инструмент в группе струнных смычковых инструментов симфонического оркестра (1 балл)

А) скрипка; Б) альт; В) арфа; Г) виолончель.

8. Балетом, НЕ принадлежащим композитору П.И. Чайковскому, является... (1 балл)

А) «Лебединое озеро»; В) «Спящая красавица»;
Б) «Щелкунчик»; Г) «Золушка».

9. Как называются глиняные, обожженные в печи яркие расписные керамические плитки, покрытые глазурью? (1 балл)

А) Черепица; Б) Изразцы; В) Терракота.

10. Отметь правильный ответ. Как называется композиция из цветного стекла, занимающая пространство окна? (1 балл)

- А) Мозаика;
- Б) Фреска;
- В) Витраж

11. Какие цвета наиболее характерны для произведений гжельских мастеров? (1 балл)

- А) красный и золотой;
- Б) жёлтый и чёрный;
- В) белый и синий;
- Г) оттенки зелёного.

12. Какие цвета называются основными? (1 балл)

- А) красный, жёлтый, зелёный;
- Б) красный, жёлтый, синий;
- В) красный, белый, чёрный;
- Г) чёрный, белый, серый.

13. Как называют художников, посвящающих свою живопись водной стихии? (1 балл)


- А) портретист;
- Б) баталист;
- В) пейзажист;
- Г) маринист.

14. Какой из перечисленных музеев находится в Москве? (1 балл)

- А) Эрмитаж;
- Б) Третьяковская галерея;
- В) Русский музей;
- Г) Лувр

15. Разгадай ребус (4 балла)

4



ак + ва + руль = аквариум

Школьный этап всероссийской олимпиады школьников
2021-2022 учебный год
Искусство
4 класс

Время выполнения работы – 60 минут

1. В эту путаницу букв попали музыкальные термины. Найди их и напиши правильные слова (5 баллов)

- 1) РУЮТЕВАР - _____
- 2) МОНАРС - _____
- 3) ОНСМИФЯИ - Симфония
- 4) НОКЕРЦТ - Концерт
- 5) ЛАТЕБ - Балет

2. Найди парные народные инструменты и соедини их: (3 балла)

Гармонь, домра, ложки, балалайка, баян, бубен

- 1) Гармонь, баян
- 2) Балалайка, домра
- 3) Ложки, бубен

3. Зачеркни лишнее слово: (1 балл)

пианист, трубоч, флейтист, композитор, скрипач.

4. Как называется произведение художника, посвященное изображению человека или группы людей? (1 балл)

- А) гравюра; Б) пейзаж; В) натюрморт; Г) портрет.

5. Что является основным качеством русской народной музыки? (1 балл)

- А) маршевость; Б) танцевальность; В) песенность.

6. Автором симфонической сказки «Петя и волк» является... (1 балл)

- А) П. Чайковский; Б) М. Глинка;
- В) С. Прокофьев; Г) Д. Кабалевский.

7. Зачеркни лишний инструмент в группе струнных смычковых инструментов симфонического оркестра (1 балл)

- А) скрипка; Б) альт; В) арфа; Г) виолончель.

8. Балетом, НЕ принадлежащим композитору П.И. Чайковскому, является... (1 балл)

- А) «Лебединое озеро»; В) «Спящая красавица»;
- В) «Щелкунчик»; Г) «Золушка».

9. Как называются глиняные, обожженные в печи яркие расписные керамические плитки, покрытые глазурью? (1 балл)

- А) Черепица; Б) Изразцы; В) Терракота.

10. Отметь правильный ответ. Как называется композиция из цветного стекла, занимающая пространство окна? (1 балл)

- А) Мозаика;
- Б) Фреска;
- В) Витраж

11. Какие цвета наиболее характерны для произведений гжельских мастеров? (1 балл)

- А) красный и золотой;
- Б) жёлтый и чёрный;
- В) белый и синий;
- Г) оттенки зелёного.

12. Какие цвета называются основными? (1 балл)

- А) красный, жёлтый, зелёный;
- Б) красный, жёлтый, синий;
- В) красный, белый, чёрный;
- Г) чёрный, белый, серый.

13. Как называют художников, посвящающих свою живопись водной стихии? (1 балл)

- А) портретист;
- Б) баталист;
- В) пейзажист;
- Г) маринист.

14. Какой из перечисленных музеев находится в Москве? (1 балл)

- А) Эрмитаж;
- Б) Третьяковская галерея;
- В) Русский музей;
- Г) Лувр

15. Разгадай ребус (4 балла)



4

Акварель

**Школьный этап Всероссийской олимпиады школьников 2021 – 2022 учебный год
Искусство (МХК) 7-8 классы**

Вам предстоит выполнить теоретические (письменные) и тестовые задания.

Время выполнения заданий теоретического тура **2 академических часа (90 минут)**.

Выполнение теоретических (письменных) заданий целесообразно организовать следующим образом:

- не спеша, внимательно прочитайте задание и определите наиболее верный и полный ответ;
- отвечая на теоретический вопрос, обдумайте и сформулируйте конкретный ответ только на поставленный вопрос;
- если Вы отвечаете на задание, связанное с заполнением таблицы или схемы, не старайтесь детализировать информацию, вписывайте только те сведения или данные, которые указаны в вопросе;
- особое внимание обратите на задания, в выполнении которых требуется выразить Ваше мнение с учетом анализа ситуации или поставленной проблемы. Внимательно и вдумчиво определите смысл вопроса и логику ответа (последовательность и точность изложения). Отвечая на вопрос, предлагайте свой вариант решения проблемы, при этом ответ должен быть кратким, но содержать необходимую информацию;
- после выполнения всех предложенных заданий еще раз удостоверьтесь в правильности выбранных Вами ответов и решений.

Выполнение заданий целесообразно организовать следующим образом:

- не спеша, внимательно прочитайте задание;
- напишите букву (цифру), соответствующую выбранному Вами ответу (в случае использования заданий с выбором ответа из предложенных);
- продолжайте таким образом работу до завершения выполнения заданий;
- после выполнения всех предложенных заданий еще раз удостоверьтесь в правильности ваших ответов;
- если потребуется корректировка выбранного Вами варианта ответа, то неправильный вариант ответа зачеркните крестиком и рядом напишите новый.


Задание теоретического тура считается выполненным, если Вы вовремя сдаете его членам жюри. **Максимальная оценка за задания теоретического тура – 87 баллов.**

Задание 1.

Рассмотрите внимательно три изображения.

Заполните таблицу и укажите:


1. Названия произведений.
2. Авторы произведений, если они известны.
3. К какой стране или культуре относятся произведения.
4. Время их создания.

	Название произведения искусства	<u>Парфенон</u>	<u>1 балл</u>
	Автор/авторы		
	К какой стране или культуре относится	<u>Греция</u>	<u>1 балл</u>
	Время создания произведения	<u>450-430 гг. до н.э.</u>	<u>2 балл</u>

4 балл

Школьный этап Всероссийской олимпиады школьников 2021 – 2022 учебный год
Искусство (МХК) 7-8 классы

2.



Название произведения искусства Пирамида Джосера 15.

Автор неизвестно —

К какой стране или культуре относится Египет 16.

Время создания произведения 2665-2645 лет до н.э. 450л.

650л

3.



Название произведения искусства Колизей 150л

Автор _____

К какой стране или культуре относится Рим (Италия) 150л.

Время создания произведения I-II 16.

350л

Оценочные баллы: максимальный – 15 баллов; фактический – _____ баллов.

Подписи членов жюри: _____

Задание 2.

Определите **ЛИШНЕЕ** в ряду.
Кратко поясните свой выбор.
Заполните таблицу.

1. Менандр, Эсхил, Аристофан, Кратин.
2. минарет, медресе, пагода, мечеть.
3. опера, симфония, оратория, ода.

Номер ряда	Лишнее слово/имя	Краткое обоснование выбора
1.	<u>Эсхил</u>	<u>Единственный драматург из списка</u>
2.	<u>Медресе</u>	<u>Все относится к религиям, кроме этого</u>
3.	<u>Ода</u>	<u>Все, кроме этого относится к муз. произведениям, а ода к лит. жанру.</u>

350л

350л

350л

Оценочные баллы: максимальный – 9 баллов; фактический – _____ баллов.

Подписи членов жюри: _____

950л

Школьный этап Всероссийской олимпиады школьников 2021 – 2022 учебный год
Искусство (МХК) 7-8 классы

Задание 3.

Дан ряд имен.

1. Объедините имена в группы. Имена можно разбить на 2 и 3 группы.
2. Определите принцип объединения (дайте название каждой группе).

Дюрер. Мельпомена. Босх. Эвтерпа. Куинджи. Полигимния. Шишкин.
Каллиопа.

Имена	Название группы
1. Шишкин, Дюрер, Босх, Куинджи 4 балла	Художники 2 балла
2. Каллиопа, Эвтерпа, Полигимния 3 балла	Музы 2 балла

11 балла

Имена	Название группы
1.	
2.	
3.	


Оценочные баллы: максимальный – 26 баллов; фактический – _____ баллов.

Подписи членов жюри: _____

Задание 4.

Рассмотрите репродукцию картины.

1. Напишите название картины.
2. Напишите полное имя художника – автора картины.
3. Опишите общую композицию картины.
4. Назовите наиболее значимые детали, их место и роль в композиции картины.



Школьный этап Всероссийской олимпиады школьников 2021 – 2022 учебный год
Искусство (МХК) 7-8 классы

1.	Иван Царевич на сером волке	2,5 бал.
2.	Васнецов	1,5 бал.
3.	<p>Общая композиция картины</p> <p>Царевич спас принцессу со своим верным другом – волком и везёт её во дворец. Вокруг них высокие столбы деревьев, через которые лишь на миг пробиваются солнечные лучи. Помимо деревьев на первом плане можно увидеть белые цветы.</p>	3,5 бал.
4.	<p>Наиболее значимые детали, их место и роль в композиции картины</p> <p>Главные герои картины – красивый юноша и красная девушка. Также к главным можно отнести и волка, на котором они мчат через дремучую чащу леса. Цветы, которые можно увидеть на 1-ом плане, мне кажется, сделаны для того, чтобы мы поняли какое время года. У меня картина ассоциируется с весной, любовью. Вызывает лишь тёплые чувства.</p>	5 баллов.

Оценочные баллы: максимальный – 25 баллов; фактический – _____ баллов.

Подписи членов жюри: _____

Школьный этап Всероссийской олимпиады школьников 2021 – 2022 учебный год
Искусство (МХК) 7-8 классы

Задание 5.

Рассмотрите музыкальные инструменты и заполните таблицу.

1. Соотнесите музыкальные инструменты по группам.
2. Укажите в таблице номера инструментов.
3. Напишите названия музыкальных инструментов.

	
1 Кларнет	2 Саксафон
	
3	4 Флейта

Название группы	№	Названия музыкальных инструментов
Деревянные духовые	1 4 2б	Флейта.
Медные духовые	2 3 2б	Саксафон, тромбон 25л.

Оценочные баллы: максимальный – 12 баллов; фактический – _____ баллов.

Подписи членов жюри: _____ 66лл

Максимальная оценка за все задания – 87 баллов

Школьный этап Всероссийской олимпиады школьников 2021 – 2022 учебный год
Искусство (МХК) 7-8 классы

Вам предстоит выполнить теоретические (письменные) и тестовые задания.

Время выполнения заданий теоретического тура **2 академических часа (90 минут)**.

Выполнение теоретических (письменных) заданий целесообразно организовать следующим образом:

- не спеша, внимательно прочитайте задание и определите наиболее верный и полный ответ;
- отвечая на теоретический вопрос, обдумайте и сформулируйте конкретный ответ только на поставленный вопрос;
- если Вы отвечаете на задание, связанное с заполнением таблицы или схемы, не старайтесь детализировать информацию, вписывайте только те сведения или данные, которые указаны в вопросе;
- особое внимание обратите на задания, в выполнении которых требуется выразить Ваше мнение с учетом анализа ситуации или поставленной проблемы. Внимательно и вдумчиво определите смысл вопроса и логику ответа (последовательность и точность изложения). Отвечая на вопрос, предлагайте свой вариант решения проблемы, при этом ответ должен быть кратким, но содержать необходимую информацию;

– после выполнения всех предложенных заданий еще раз удостоверьтесь в правильности выбранных Вами ответов и решений.

Выполнение заданий целесообразно организовать следующим образом:

- не спеша, внимательно прочитайте задание;
- напишите букву (цифру), соответствующую выбранному Вами ответу (в случае использования заданий с выбором ответа из предложенных);
- продолжайте таким образом работу до завершения выполнения заданий;
- после выполнения всех предложенных заданий еще раз удостоверьтесь в правильности ваших ответов;
- если потребуется корректировка выбранного Вами варианта ответа, то неправильный вариант ответа зачеркните крестиком и рядом напишите новый.

Задание теоретического тура считается выполненным, если Вы вовремя сдаете его членам жюри. **Максимальная оценка за задания теоретического тура – 87 баллов.**


Задание 1.

Рассмотрите внимательно три изображения.

Заполните таблицу и укажите:


1. Названия произведений.
2. Авторы произведений, если они известны.
3. К какой стране или культуре относятся произведения.
4. Время их создания.

1.


	Название произведения искусства <u>Храм Аполлона, Храм Артемиды</u>
	Автор/авторы _____
	К какой стране или культуре относится <u>Греция</u>
	Время создания произведения <u>19 век</u>

Школьный этап Всероссийской олимпиады школьников 2021 – 2022 учебный год
Искусство (МХК) 7-8 классы

2.

	Название произведения искусства	<u>Пирамида⁴⁵</u>	
	Автор	<u>Нет</u>	<u>1</u>
	К какой стране или культуре относится	<u>Египет</u>	<u>1</u>
	Время создания произведения	древний мир <u>9 век</u>	<u>25</u>

3.

	Название произведения искусства	<u>Коллгей</u>	<u>1</u>
	Автор		
	К какой стране или культуре относится	<u>Италия, Рим</u>	<u>1</u>
	Время создания произведения	древний мир <u>1-2 век</u>	<u>15</u>

Оценочные баллы: максимальный – 15 баллов; фактический – _____ баллов.

3601

Подписи членов жюри: _____

Задание 2.

Определите **ЛИШНЕЕ** в ряду.
Кратко поясните свой выбор.
Заполните таблицу.

1. Менандр, Эсхил, Аристофан, Кратин.
2. минарет, медресе, пагода, мечеть.
3. опера, симфония, оратория, ода.

Номер ряда	Лишнее слово/имя	Краткое обоснование выбора
1.	<u>Менандр</u>	
2.	<u>Мечеть</u>	<u>Это мусульманское здание.</u>
3.	<u>Оратория</u>	<u>Все другие относятся к музыкальным видам.</u>

Оценочные баллы: максимальный – 9 баллов; фактический – _____ баллов.

Подписи членов жюри: _____

Школьный этап Всероссийской олимпиады школьников 2021 – 2022 учебный год
Искусство (МХК) 7-8 классы

Задание 3.

Дан ряд имен.

1. **Объедините** имена в группы. Имена можно разбить на 2 и 3 группы.

2. **Определите** принцип объединения (дайте название каждой группе).

Дюрер. Мельпомена. Босх. Эвтерпа. Куинджи. Полигимния. Шишкин.
Каллиопа.

Имена	Название группы
1. Босх	Композиторы
2. Шишкин	Писатели

Имена	Название группы
1. Эвтерпа, Каллиопа	Скульпторы
2. Дюрер, Мельпомена	Художники
3. Куинджи, Полигимния	Архитекторы

Оценочные баллы: максимальный – 26 баллов; фактический – _____ баллов.

Подписи членов жюри: _____

Задание 4.

Рассмотрите репродукцию картины.

1. **Напишите** название картины.
2. **Напишите** полное имя художника – автора картины.
3. **Опишите** общую композицию картины.
4. **Назовите** наиболее значимые детали, их место и роль в композиции картины.



Школьный этап Всероссийской олимпиады школьников 2021 – 2022 учебный год
Искусство (МХК) 7-8 классы

1.	Иван Царевич на серой Волке	25А
2.	Иван Царевич Виктор Васнецов.	25А

3. **Общая композиция картины**
 Иван и Людмила убегают на серой Волке. В темном лесу Людмила очень испуганно, поэтому она благодарила на своего возлюбленного. Волк всеми силами пытается убежать от туды, и спасти их. Иван очень волнуется, это видно по его взгляду. Все они изображены в центре картины, а их окружает мощный, дремущий лес. Так как на первоначальном этапе видны ветки светлыми, это даёт понять, что лес вот так в этой композиции. Так же не известно куда с таким страшным взглядом смотрит Иван, может быть это то мепакнулось и он так резко отреагировал, и художник запечатлел этот момент.

55АА

4. **Наиболее значимые детали, их место и роль в композиции картины**
 Иван царевич - главная роль, сидит на Волке, и пытается успокоить Людмилу.
 Людмила - главная роль, сидит на Волке, благодарила на Ивана.
 Волк - главная роль, он помогает Ивану и Людмиле убежать.
 Все главные герои изображены в центре картины. Лес окружает их со всех сторон. Именно он создаёт задний фон. Он делает картину мрачной, буд-то мы находимся в глухом лесу. Поэтому лес здесь тоже важен.

10 БАА

Оценочные баллы: максимальный – 25 баллов; фактический – _____ баллов.
 Подписи членов жюри: _____

Школьный этап Всероссийской олимпиады школьников 2021 – 2022 учебный год
Искусство (МХК) 7-8 классы

Задание 5.

Рассмотрите музыкальные инструменты и заполните таблицу.

1. Соотнесите музыкальные инструменты по группам.
2. Укажите в таблице номера инструментов.
3. Напишите названия музыкальных инструментов.

	
1	2
	
3	4

Название группы	№	Названия музыкальных инструментов
Деревянные духовые	1, 4 26	кларнет флейта флейта 26
Медные духовые	2, 3 26	тромбон альтовая труба альтовая труба 26.

Оценочные баллы: максимальный – 12 баллов; фактический – _____ баллов.

Подписи членов жюри: _____ 868

Максимальная оценка за все задания – 87 баллов

М-09-01

Школьный этап Всероссийской олимпиады школьников 2021 – 2022 учебный год
Искусство (МХК) 9 класс

Задание 1.

Определите ЛИШНЕЕ в ряду.
Кратко поясните свой выбор.
Заполните таблицу.

1. «Обыкновенное чудо», «Жестокий романс», «Тот самый Мюнхгаузен», «Формула любви».
2. Посейдон, Гефест, Геракл, Гермес.
3. тенор, контральто, баритон, бас.

Номер ряда	Лишнее слово/имя/название	Краткое обоснование выбора
1.	Тот самый Мюнхгаузен	просто так, фантастика
2.	Геракл ↓	Полубог 2 БА.
3.	Тенор	

Оценочные баллы: максимальный – 9 баллов; фактический – _____ баллов.


Подписи членов жюри: _____

Задание 2.

Рассмотрите внимательно три изображения.

Заполните таблицу и укажите:

1. Названия произведений.
2. Авторы произведений, если они известны.
3. К какой стране, эпохе, стилю относятся произведения.
4. Время их создания.

	Название произведения искусства	Домна с горючими м. 1 БА.
	Автор	Леонардо - да Винчи 2 БА.
	К какой стране, эпохе, стилю относится	Италия, эпоха Возрождения; Кватроченто, Ренессанс 3 БА.
	Время создания произведения	17 - 19 век

6 БА.

Школьный этап Всероссийской олимпиады школьников 2021 – 2022 учебный год
Искусство (МХК) 9 класс

2.




Название произведения искусства
дворец

Автор
Виктор Иванович Васнецов

К какой стране эпохе, стилю относится
Франция

Время создания произведения
19-19 век

3.



Название произведения искусства
Иура-Гуцук 1

Автор
Андрей Солов 25 балл

К какой стране, эпохе, стилю относится
Россия 1

Время создания произведения
1586 25 балл

Оценочные баллы: максимальный – 25 баллов; фактический – 6 баллов.
Подписи членов жюри: _____

Задание 3.

Рассмотрите репродукцию картины.

1. **Напишите** название картины.
2. **Напишите** полное имя художника – автора картины.
3. **Опишите** общую композицию картины.
4. **Назовите** наиболее значимые детали, их место и роль в композиции картины.
5. **Определите** общее настроение картины.
6. **Укажите** 3 известные картины этого же художника.



Школьный этап Всероссийской олимпиады школьников 2021 – 2022 учебный год
Искусство (МХК) 9 класс

1.	Бурляки на Волге	26лет
2.	Илья Ефимович Репин	36лет.
3.	Композиция Бурляки тащат судно на мель	
4.	рваная одежда, узлы на деревьях в лесу	25лет
5.	Федотов, Мухомов.	55лет
6.	Руэль, сойка, Осенний букет	66лет

Школьный этап Всероссийской олимпиады школьников 2021 – 2022 учебный год
Искусство (МХК) 9 класс

Оценочные баллы: максимальный – 31 балл; фактический – _____ баллов.

Подписи членов жюри: _____

Задание 4.

Дан ряд имен, связанных с искусством, и изображения деятелей искусства.




1. Объедините имена в группы, впишите в соответствующие строки таблицы и укажите принцип объединения.
2. Соотнесите изображения с фамилиями деятелей искусства и результат занесите в таблицу.

1. Скопас. Достоевский. Лисипп. Баст. ~~Салтыков-Щедрин~~. Пракситель. Диккенс. Анупис.

Имена	принцип объединения
Анупис - Баст - Скопас 2	Бож (Египетские) 2
Достоевский, Салтыков-Щедрин 2	Гуманизм 2
Лисипп, Пракситель, Диккенс	Фигурология

2.

4.5 балла

		
№1 – Достоевский	№2 – Салтыков-Щедрин 2.5 балла	№3 – Пракситель

Оценочные баллы: максимальный – 20 баллов; фактический – _____ баллов.

Подписи членов жюри: _____

11-09-01

Школьный этап Всероссийской олимпиады школьников 2021 – 2022 учебный год
Искусство (МХК) 9 класс

Задание 5.

Определите произведение по описанию.

1. **Напишите** название произведения.
2. **Укажите** вид искусства, к которому оно принадлежит.
3. **Напишите**, к культуре какого народа произведение принадлежит.
4. **Укажите** автора произведения.
5. **Укажите** время создания произведения.
6. **Укажите** место нахождения произведения.

Достоинство и красота и скорбь:
 Над мрамором сим полно вам стенать!
 Он мертв, но жив, – и снятого с креста
 Остерегитесь песнями поднять,
 Дабы до времени из мертвых не воззвать
 Того, кто скорбь приял один
 За всех, кто есть наш господин,
 Тебе ж – отец, супруг и сын теперь,
 О ты, единая жена и мать, и дочь!

Название произведения	Льето	2 бал.
Вид искусства	культуры	2 бал.
Страна	Италия	2 бал.
Автор	Микеланджело	1 бал.
Век или эпоха	конец XV, Возрождение	1 бал.
Местонахождение	Собор святого Петра	1 бал.

Оценочные баллы: максимальный – 15 баллов; фактический – 12,5 баллов.
 Подписи членов жюри: _____

Максимальная оценка за все задания – 100 баллов

Школьный этап Всероссийской олимпиады школьников 2021 – 2022 учебный год
Искусство (МХК) 9 класс

Задание 1.

Определите **ЛИШНЕЕ** в ряду.
Кратко поясните свой выбор.
Заполните таблицу.

- «Обыкновенное чудо», «Жестокий романс», «Тот самый Мюнхгаузен», «Формула любви».
- Посейдон, Гефест, Геракл, Гермес.
- тенор, контральто, баритон, бас.

Номер ряда	Лишнее слово/имя/название	Краткое обоснование выбора
1.	«Тот самый Мюнхгаузен»	Название других произведений составлено с иронией, противоречием. ✓
2.	Гефест Геракл	Геракл является полу-богом, в то время как остальные – полноценными богами. 260.
3.	Контральто	Все, кроме контральто – типы голосов. 160л.

Оценочные баллы: максимальный – 9 баллов; фактический – 4 баллов.

Подписи членов жюри: _____


Задание 2.

Рассмотрите внимательно три изображения.

Заполните таблицу и укажите:

1. Названия произведений.
2. Авторы произведений, если они известны.
3. К какой стране, эпохе, стилю относятся произведения.
4. Время их создания.


1.

	Название произведения искусства
	Автор
	К какой стране, эпохе, стилю относится
	Время создания произведения

М-09-01

Школьный этап Всероссийской олимпиады школьников 2021 – 2022 учебный год
Искусство (МХК) 9 класс

2.




Название произведения искусства
Зимний Дворец

Автор _____

К какой стране эпохе, стилю относится Россия, Классицизм 36 балл

Время создания произведения
17 в.

3.



Название произведения искусства Царьпушка 1 балл

Автор _____

К какой стране, эпохе, стилю относится Россия 1 балл

Время создания произведения
17 в.

Оценочные баллы: максимальный – 25 баллов; фактический – 5 баллов.

Подписи членов жюри: _____

Задание 3.

Рассмотрите репродукцию картины.

1. Напишите название картины.
2. Напишите полное имя художника – автора картины.
3. Опишите общую композицию картины.
4. Назовите наиболее значимые детали, их место и роль в композиции картины.
5. Определите общее настроение картины.
6. Укажите 3 известные картины этого же художника.



Школьный этап Всероссийской олимпиады школьников 2021 – 2022 учебный год
Искусство (МХК) 9 класс

1.	"Бурлаки на Волге" 250.
2.	
3.	<p>На первом плане мы видим бурлаков на берегу Волги. Все в лохмотьях, изнуренное, усталое они тащут за собой парусное судно на грузном плече.</p> <p>Тоннами бурлаков редкие травы, ветки, яркий песок. У левого края картины плечо касается Волгой. Видно другое парусное судно, плывущее на по ней. 550.</p>
4.	<p>Большое значение играет усталое лицо бурлаков, плече на канатное мотило плечо всю тяжесть их ноши. Песок на берегу ярко-желтый, но в сочетании с изнуренными лицами на картине, он дарит чувство тоски, тоской. Торго подвешенной торговой флян на судне может играть роль символа, обозначающего Российский империализм, колониализм, построенную на плече крестьян. 1000</p>
5.	<p>Настроение меланхолическое, краснотра картина хорошо передает эмоциональный спектр цвета нежного, из-за чего возникает чувство тоски, зное и изнуренности зависит на себе. Концентрируется в 5500.</p>
6.	

11-09-22

Школьный этап Всероссийской олимпиады школьников 2021 – 2022 учебный год
Искусство (МХК) 9 класс

Оценочные баллы: максимальный – 31 балл; фактический – _____ баллов.

Подписи членов жюри: _____

Задание 4.




Дан ряд имен, связанных с искусством, и изображения деятелей искусства.

1. Объедините имена в группы, впишите в соответствующие строки таблицы и укажите принцип объединения.
2. Соотнесите изображения с фамилиями деятелей искусства и результат занесите в таблицу.

1. Скопас. Достоевский. Лисипп. Баст. Салтыков-Щедрин. Пракситель. Диккенс. Анубис.

Имена	принцип объединения
Анубис, Баст, Скопас	Боги
Достоевский, Диккенс, Салтыков-Щедрин	Писатели
Пракситель, Лисипп	Трехи

2.

		
№1 – Диккенс	№2 – Салтыков-Щедрин	№3 – Достоевский

Оценочные баллы: максимальный – 20 баллов; фактический – _____ баллов.

Подписи членов жюри: _____

Школьный этап Всероссийской олимпиады школьников 2021 – 2022 учебный год
Искусство (МХК) 9 класс

Задание 5.

Определите произведение по описанию.

1. **Напишите** название произведения.
2. **Укажите** вид искусства, к которому оно принадлежит.
3. **Напишите**, к культуре какого народа произведение принадлежит.
4. **Укажите** автора произведения.
5. **Укажите** время создания произведения.
6. **Укажите** место нахождения произведения.

Достоинство и красота и скорбь:
Над мрамором сим полно вам стенать!
Он мертв, но жив, – и снятого с креста
Остерегитесь песнями поднять,
Дабы до времени из мертвых не воззвать
Того, кто скорбь приял один
За всех, кто есть наш господин,
Тебе ж – отец, супруг и сын теперь,
О ты, единая жена и мать, и дочь!

Название произведения	
Вид искусства	
Страна	
Автор	
Век или эпоха	
Местонахождение	

Оценочные баллы: максимальный – 15 баллов; фактический – _____ баллов.

Подписи членов жюри: _____

Максимальная оценка за все задания – 100 баллов