






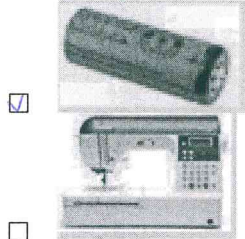
ВСЕРОССИЙСКАЯ ОЛИМПИАДА ШКОЛЬНИКОВ 2021/2022 гг.
ШКОЛЬНЫЙ ЭТАП ТЕХНОЛОГИЯ
ТЕХНИКА И ТЕХНИЧЕСКОЕ ТВОРЧЕСТВО 9 КЛАСС

T-09-01



0

8. Из предложенных рисунков выберите те, на которых изображены источники энергии.



1

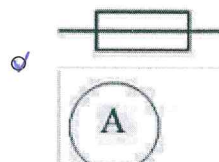

9. Установите соответствие между передачами, изображенными на рисунках, и их названиями.

Изображения		Названия	
1		А	зубчатая реечная передача
2		Б	зубчато-ременная передача
3		В	перекрестная ременная передача
4		Г	прямая ременная передача

0

Ответ: 1 – В, 2 – А, 3 – Г, 4 – Б

10. Из предложенных элементов электрических схем выберите условное обозначение предохранителя.



1

11. Рассмотрите приведённую фотографию. Определите, какой прибор на ней изображён.